



Codice del candidato:

Državni izpitni center



M 0 4 1 5 0 1 2 2 1

I SESSIONE D'ESAME

# GEOGRAFIA

≡ Prova d'esame 2 ≡

**Mercoledì 9 giugno 2004 / 80 minuti**

*Al candidato è consentito l'uso della penna stilografica o della penna a sfera.*

*Il candidato ha a disposizione due schede di valutazione.*

*La prova d'esame comprende un allegato a colori.*

**ESAME DI MATURITÀ LICIALE**

## INDICAZIONI PER I CANDIDATI

**Leggete attentamente le seguenti indicazioni. Non tralasciate nulla.**

**Non voltate pagina e non iniziate a risolvere i quesiti prima del via dell'insegnante preposto.**

Incollate o scrivete il vostro numero di codice nello spazio apposito su questa pagina in alto a destra e sulle schede di valutazione.

Rispondete con frasi complete e non con singole parole. Scrivete le risposte negli spazi appositi, usando la penna stilografica o a sfera. Scrivete in modo leggibile. **Le risposte illeggibili e le correzioni poco chiare verranno valutate con zero (0) punti.**

A lato degli esercizi, a destra, è segnato il punteggio possibile.

Riflettete e pianificate bene le vostre risposte. Abbiate fiducia in voi stessi e nelle vostre capacità.

Buon lavoro.

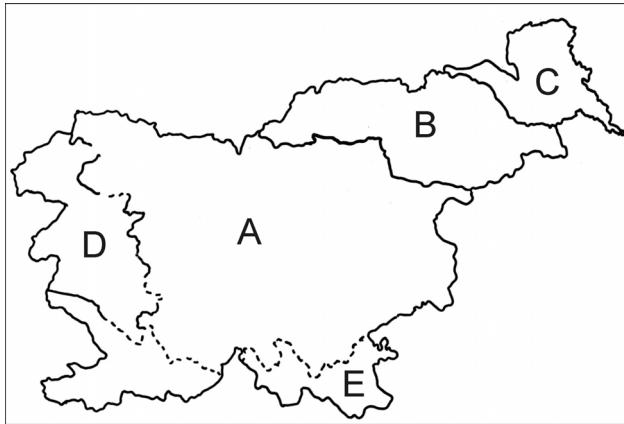
*Questa prova d'esame ha 16 pagine, di cui 4 vuote.*



## D1 – SLOVENIA

1. La **cartina n. 1** rappresenta i bacini fluviali della Slovenia. Segnate i **nomi dei bacini fluviali** contrassegnati dalle singole lettere.

Cartina n. 1



- A \_\_\_\_\_  
 B \_\_\_\_\_  
 C \_\_\_\_\_  
 D \_\_\_\_\_  
 E \_\_\_\_\_

(2 punti)

(Fonte: Klemenčič, M., Lipovšek, I., 2002: Geografija Slovenije 1, pag. 41. DZS. Ljubljana)

2. Sulla **cartina n. 1** sono segnate le linee spartiacque tra i bacini fluviali. Spiegate il motivo della **difficile definizione** della linea spartiacque tra i bacini **A** ed **E**.

\_\_\_\_\_  
 \_\_\_\_\_  
 \_\_\_\_\_

(1 punto)

3. Gli **allegati 1 e 2 (Allegato alla prova d'esame 2)** rappresentano due differenti tipi di rocce. Indicatene il nome.

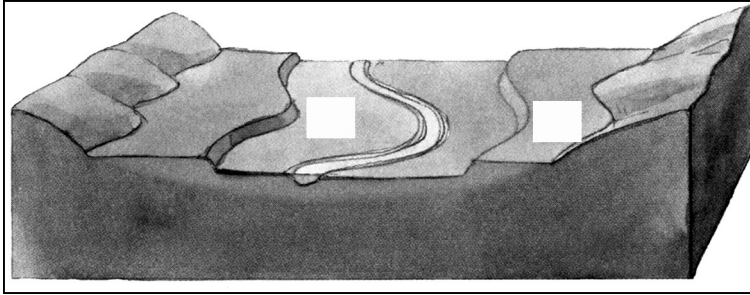
Allegato 1: \_\_\_\_\_

Allegato 2: \_\_\_\_\_

(2 punti)

4. Nei singoli riquadri all'interno della **figura n. 1** inserite il numero delle **rocce**, presenti nella **domanda n. 3**, che sono maggiormente diffuse nel **tratto** del corrispondente **terrazzo** fluviale.

Figura n. 1



(Fonte: Cunder., K., in ostali, 2001: Geografija za 1. letnik gimnazij, pag. 35. Mladinska knjiga. Ljubljana)

(1 punto)

5. La falda acquifera rappresenta un'importante riserva di acqua potabile. Cerchiate la lettera che precede l'affermazione **errata**.

**La falda acquifera si rinnova:**

- A Con l'infiltrazione delle acque meteoriche attraverso rocce incoerenti.
- B Con l'infiltrazione delle acque meteoriche attraverso fratture nella roccia madre.
- C Con lo riempimento da vicini fiumi e laghi.

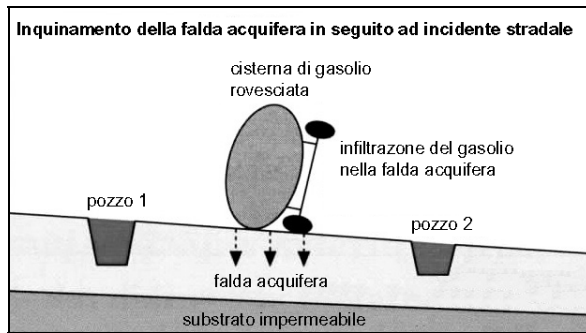
**Il livello della falda acquifera oscilla durante l'anno ed è:**

- A Alto nel periodo delle piogge autunnali.
- B Alto nel periodo primaverile dello scioglimento del manto nevoso.
- C Alto nel periodo invernale delle precipitazioni nevose.

(2 punti)

6. L'uomo inquina la falda acquifera in vari modi. **La figura n. 2** rappresenta una forma di inquinamento in seguito ad incidente stradale. Indicate quale dei due pozzi verrà maggiormente contaminato e motivate la vostra scelta.

Figura n. 2



(Fonte: Klemenčič, M., Lipovšek, I., 2002: Geografija Slovenije 1, pag. 44. DZS. Ljubljana)

Pozzo numero: \_\_\_\_\_

Motivazione: \_\_\_\_\_

---

---

---

---

---

(2 punti)

**D2 – SLOVENIA**

7. Accanto ad ogni affermazione segna il **termine specifico** corrispondente.

Villaggio accentrato      Frazione      Insediamento sparso      Fattoria isolata

Villaggio allungato

Le abitazioni sono sparse in modo disordinato. \_\_\_\_\_

Le abitazioni rurali sono distanti l'una dall'altra. \_\_\_\_\_

È una via di mezzo tra villaggio e fattoria isolata. \_\_\_\_\_

È tipico dei crinali collinari vitivinicoli. \_\_\_\_\_

(2 punti)

8. Nella tabella segnate con dei **più (+)** le affermazioni valide per le singole fotografie negli **allegati 3 e 4 (Allegato alla prova d'esame 2)**.

	Allegato 3	Allegato 4
Suburbanizzazione		
Quartiere dormitorio		
Assenza di spazi pianeggianti		
Abitazioni di villeggiatura		
Composizione etnica omogenea		

(2 punti)

9. Indicate la **struttura d'età** della popolazione **prevalente** negli insediamenti rappresentati negli **allegati 3 e 4 (Allegato alla prova d'esame 2)**.

Allegato 3: \_\_\_\_\_

Allegato 4: \_\_\_\_\_

(1 punto)

10. Come si **evolverà la situazione** demografica nell'insediamento rappresentato **nell'allegato 3 (Allegato alla prova d'esame 2)**.

\_\_\_\_\_

\_\_\_\_\_

(1 punto)

11. I **grafici a torta n. 1, 2, 3 e 4** rappresentano la struttura occupazionale della popolazione in alcune città della Slovenia. Indicate il nome della città rappresentata da ciascun grafico a torta.

LUBIANA

CAPODISTRIA

ORMOŽ

VELENJE

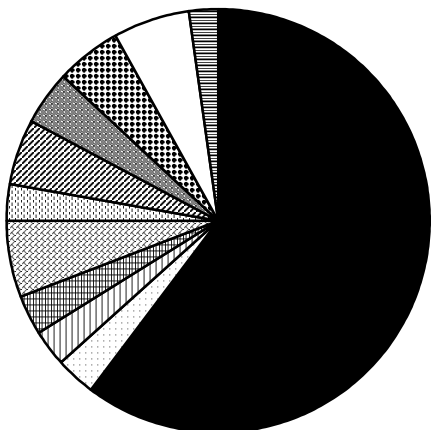


Grafico 1 \_\_\_\_\_

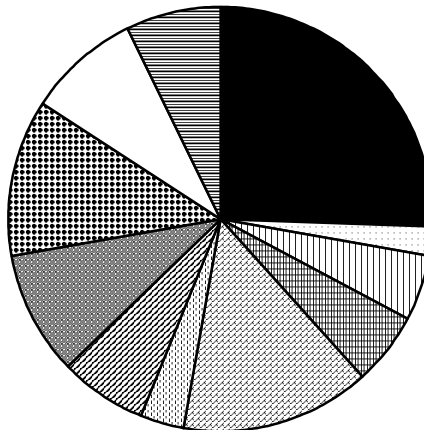


Grafico 2 \_\_\_\_\_

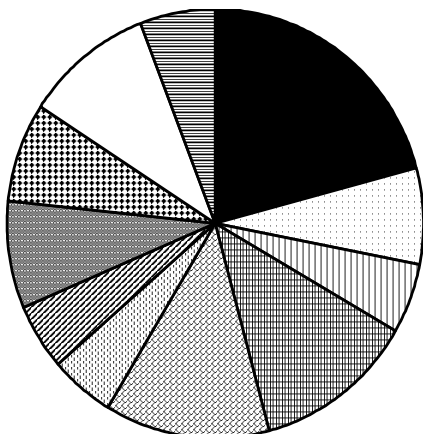


Grafico 3 \_\_\_\_\_

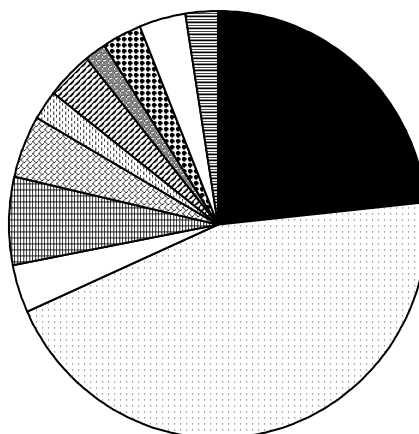



Grafico 4 \_\_\_\_\_



(Fonte: Statistični letopis RS 1992, letnik XXXI, pag. 401, Ljubljana, 1993)

(2 punti)

12. Tra le città della **domanda n. 11**, scegliete quella con la più **alta** percentuale di popolazione occupata nel **settore quaternario** (quartario). Spiegate che cosa ha influito sull'elevata percentuale di occupati in questo settore economico.

Città: \_\_\_\_\_

Spiegazione: \_\_\_\_\_

\_\_\_\_\_

\_\_\_\_\_

*(2 punti)*



**E1 – L'ITALIA**

13. Completare le frasi che seguono, mettendo al posto giusto le parole elencate sotto.

A Le principali pianure che si affacciano sul mare Tirreno sono:

---

---

B Le principali pianure che si affacciano sul mare Adriatico sono:

---

C Nella parte orientale della pianura padana scorrono alcuni fiumi che sfociano nell'Adriatico; essi sono:

---

---

D La principale pianura della Sardegna si chiama: \_\_\_\_\_

**Tavoliere, Valdarno, Maremma, Adige, pianura padana, Brenta, Campidano, Piave, pianura campana, Tagliamento, Agro Pontino, Isonzo**

(2 punti)

14. Completare il brano che segue, mettendo al posto giusto le parole elencate sotto:

Il Po scorre nella pianura \_\_\_\_\_; esso riceve numerosi \_\_\_\_\_, che provengono in parte dalle \_\_\_\_\_ e in parte dagli \_\_\_\_\_

Sia il Po che i suoi affluenti trascinano molti \_\_\_\_\_, che derivano dall' \_\_\_\_\_ delle montagne; essi, depositandosi nell' \_\_\_\_\_, ne innalzano il fondo, cosicchè il fiume diventa \_\_\_\_\_ ed è pericoloso per la campagna circostante, perchè può provocare delle \_\_\_\_\_. Per proteggere la campagna circostante sono stati costruiti degli \_\_\_\_\_.

**alveo / detriti / pensile / padana / Alpi / argini / affluenti / Appennini / alluvioni / erosione**

(2 punti)

15. Completare le affermazioni.

A I laghi di Bolsena, di Vico e di Bracciano, nell'Antiappennino toscano e laziale,  
sono di origine \_\_\_\_\_.

B I laghi prealpini di Garda, Como e Maggiore sono di origine \_\_\_\_\_.

(2 punti)

16. Spiegare le caratteristiche geomorfologiche della pianura padana utilizzando tutti i termini sotto riportati.

---

---

---

---

---

---

---

---

---

---

---

---

---

<b>alta pianura / permeabili / bassa pianura / linea delle risorgive / terreni ciottolosi / impermeabili / terreni più fini</b>
---

(4 punti)

**E2 – L'ITALIA**

17. Vero o falso?

Cerchiare la lettera V se l'affermazione corrisponde al vero.  
Cerchiare la lettera F se l'affermazione è falsa.

- |  |   |   |
|--|---|---|
| A La popolazione è aumentata molto nell'ultimo secolo.               | V | F |
| B La densità di popolazione dell'Italia è tra le più basse d'Europa. | V | F |
| C Le zone più popolate sono quelle di montagna e di collina.         | V | F |
| D La popolazione italiana è uniformemente distribuita.               | V | F |
- (2 punti)*

18. Completare la frase.

La principale migrazione interna all'Italia ha avuto direzione da \_\_\_\_\_ a \_\_\_\_\_.  
*(1 punto)*

19. Scegliere l'alternativa corretta fra quelle proposte.

In Italia i servizi si concentrano nelle aree \_\_\_\_\_.  
(rurali / periferiche / urbane)  
*(1 punto)*

20. Vero o falso?

Cerchiare la lettera V se l'affermazione corrisponde al vero.  
Cerchiare la lettera F se l'affermazione è falsa.

- |   |   |   |
|---|---|---|
| A La maggior parte dei lavoratori italiani è impiegata nell'agricoltura | V | F |
| B La maggior parte dei lavoratori italiani è occupata nell'industria    | V | F |
| C La maggior parte dei lavoratori italiani è occupata nel terziario     | V | F |
| D L'agricoltura italiana è un settore in crisi                          | V | F |
- (2 punti)*

21. Rispondere alle seguenti domande.

A Quali fattori hanno favorito lo sviluppo dell'industria nell'alta pianura padana?

---

---

---

---

B Quali fattori favoriscono lo sviluppo dell'agricoltura nella bassa pianura padana?

---

---

---

---

*(4 punti)*

PAGINA VUOTA

PAGINA VUOTA

PAGINA VUOTA

PAGINA VUOTA