



Codice del candidato:

Državni izpitni center



SESSIONE PRIMAVERILE

S T O R I A

≡ Prova d'esame 1 ≡

Storia generale

Lunedì, 7 giugno 2010 / 90 minuti

*Al candidato è consentito l'uso della penna stilografica o della penna a sfera.
Al candidato vengono consegnate due schede di valutazione.*

MATURITÀ GENERALE

INDICAZIONI PER I CANDIDATI

Leggete con attenzione le seguenti indicazioni.

Non aprite la prova d'esame e non iniziate a svolgerla prima del via dell'insegnante preposto.

Incollate o scrivete il vostro numero di codice negli spazi appositi su questa pagina in alto a destra e sulle due schede di valutazione.

La prova d'esame si compone di 25 quesiti, risolvendo correttamente i quali potete conseguire fino a un massimo di 60 punti. Il punteggio conseguibile in ciascun quesito viene di volta in volta espressamente indicato.

Scrivete le vostre risposte negli spazi appositamente previsti **all'interno della prova** utilizzando la penna stilografica o la penna a sfera. Scrivete in modo leggibile: in caso di errore, tracciate un segno sulla risposta scorretta e scrivete accanto ad essa quella corretta. Alle risposte e alle correzioni scritte in modo illeggibile verrà assegnato il punteggio di zero (0).

Abbiate fiducia in voi stessi e nelle vostre capacità. Vi auguriamo buon lavoro.

La prova si compone di 16 pagine, di cui 3 bianche.

Pagina bianca

VOLTATE IL FOGLIO.

L'ILLUMINISMO E LA RIVOLUZIONE INDUSTRIALE

1. Alla fine del Medioevo l'Europa fu attraversata da un nuovo movimento culturale e spirituale che prese il nome di Illuminismo. In quale secolo si affermò l'Illuminismo? Cerchiate la lettera davanti alla risposta esatta.

(1 punto)

- A Nel secolo XVI
- B Nel secolo XIX
- C Nel secolo XVIII

2. I dibattiti e le opere degli illuministi erano attraversate da uno spirito nuovo e da una innovativa visione del mondo sia nel campo del diritto sia in quello della religione. Spiegate il significato delle espressioni riportate qui sotto e che si ricollegano all'Illuminismo.

(2 punti)

UGUAGLIANZA DINANZI ALLA LEGGE

TOLLERANZA RELIGIOSA


3. Jean Jacques Rousseau fu uno dei massimi esponenti dell'Illuminismo. Indicate il titolo della sua opera più importante. Quale è il pensiero centrale di tale opera?

(2 punti)

4. Il filosofo e giurista francese Charles de Montesquieu fu tra i pensatori illuministi di maggiore spicco. In una sua opera importante egli sostenne con fermezza il principio della separazione dei poteri all'interno dello stato. Elencate i "poteri" che secondo Montesquieu dovevano essere separati a tutela dell'ordinamento democratico di uno stato. Indicate il titolo dell'opera in cui viene sostenuto il principio della separazione dei poteri.

(2 punti)

Immagine 1

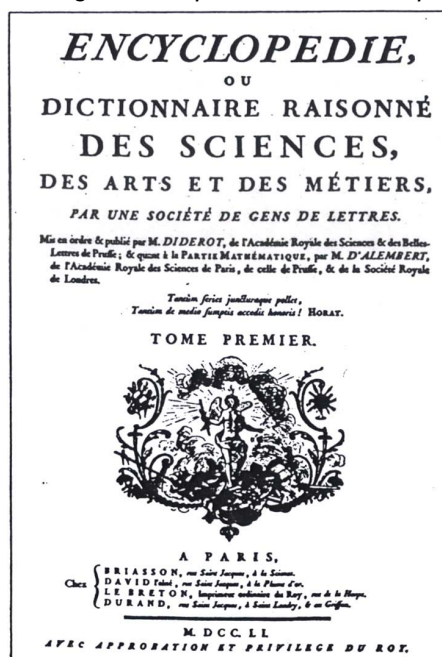


(Fonte: Zeiten, Menschen, Kulturen 4, Gegenreformation, Absolutismus, Aufklärung. Kanton Zürich 1980. pag. 128)

5. Uno dei maggiori risultati dell'Illuminismo fu la pubblicazione dell'Enciclopedia. Qual era il fine dell'Enciclopedia? Indicate il nome di uno degli autori che parteciparono alla stesura dell'Enciclopedia.

(2 punti)

Immagine 2: Copertina dell'Enciclopedia



(Fonte: Grobelnik, I., Voje, I., 1990: Zgodovina 2, pag. 146. DZS. Ljubljana)

6. Con l'Illuminismo anche la scienza economica fece importanti passi in avanti soprattutto grazie ai fisiocratici.
Quale era la classe sociale più produttiva secondo gli esponenti della fisiocrazia?
In quali modi lo stato doveva sostenere tale classe sociale, affinché essa potesse vivere meglio?
Con l'aiuto della fonte, indicate la fonte principale dell'economia di uno stato secondo i fisiocratici.

(3 punti)

»Se ragioniamo sui modi di creare una certa ricchezza, giungiamo alla conclusione che sono soltanto ed esclusivamente i frutti della terra l'unica risorsa, in quanto si rigenerano continuamente, in armonia con i bisogni primari che non cambiano. È la terra l'unica ricchezza effettiva ed il suo rinnovarsi costante assicura allo stato un reddito fisso ...

(Fonte: Trad. da: Grobelnik, I., Voje, I., 1990: Zgodovina 2, pag. 148. DZS. Ljubljana)

7. La fisiocrazia aveva preso le mosse dalla teoria economica che l'aveva preceduta, il mercantilismo.
Spiegate la ragione della denominazione "mercantilismo" assunta da tale teoria.
Descrivete due forme di intervento dello stato a favore del mercantilismo.

(3 punti)

8. Nel corso del secolo molti regnanti, ispirandosi alla filosofia illuministica, intrapresero estese opere di riforma e modernizzazione dei rispettivi stati.
Indicate i nomi dei due sovrani illuminati che introdussero importanti riforme in Russia e in Prussia.
A quale scopo i sovrani illuminati decisero di introdurre tali riforme?

(2 punti)

9. Anche la monarchia asburgica fu attraversata da un'ondata di riforme introdotte dai sovrani illuminati Maria Teresa e Giuseppe II.
Elencate e descrivete tre forme di intervento in campo agricolo.

(3 punti)

10. L'Illuminismo accelerò i progressi compiuti nel campo delle scienze, grazie ai quali si giunse a nuove scoperte.
Inserite le lettere che precedono le invenzioni e scoperte della colonna di sinistra nei rispettivi spazi vuoti della colonna di destra.

(3 punti)

A chimica	_____	Carl Linnè
B grado	_____	Mihail V. Lomonosov
C macchina a vapore	_____	Alessandro Volta
D corrente galvanica	_____	Luigi Galvani
E classificazione degli esseri viventi	_____	James Watt
F corrente elettrica	_____	Anders Celsius

11. La società della Francia prerivoluzionaria era nettamente divisa in tre classi.
In forma di breve testo espositivo descrivete tale periodo storico facendo riferimento alle seguenti indicazioni: definite le tre classi sociali che caratterizzavano la Francia prima della rivoluzione, indicatene la composizione, elencate due peculiarità per ciascuna classe sociale e spiegate il motivo per cui gli Stati Generali non erano stati convocati per ben 175 anni.

(5 punti)

Immagine 3: Caricatura delle tre classi sociali



(Fonte: Grobelnik I., Voje I., 1990: Zgodovina 2, pag. 162. DZS. Ljubljana)

12. Alla vigilia della rivoluzione, la Francia stava attraversando un difficile periodo di crisi. Indicate tre ragioni della difficile situazione che caratterizzava la Francia di allora.

(3 punti)


13. I vari ministri delle finanze al servizio del re erano concordi sulla necessità di una urgente riforma della politica finanziaria. Indicate il nome di un ministro delle finanze che fu al servizio del re di Francia prima della rivoluzione. Qual era la soluzione proposta dai ministri per risolvere la difficile crisi finanziaria del paese? Spiegate perché la corte non volle prendere in considerazione le proposte avanzate dai ministri.

(3 punti)

14. Costretto dalle circostanze, il re decise infine di convocare gli Stati Generali.
Dove si riunirono i membri degli Stati Generali dopo la convocazione?

(1 punto)

Immagine 4



(Fonte: Grobelnik, I., in Voje, I., 1990: Zgodovina 2, pag. 136. DZS. Ljubljana)

15. Subito dopo la convocazione, tra i membri degli Stati Generali si accese una disputa riguardante il sistema di votazione.
Quale sistema di voto era sostenuto dai rappresentanti del terzo stato e quale invece da quelli delle altre due classi?

(2 punti)

16. Lo stato delle cose precipitò con lo scoppio della rivoluzione.
Con quale episodio e in quale data ebbe inizio la rivoluzione a Parigi?

(2 punti)

17. Per placare gli animi della popolazione rurale, nella notte tra il 4 e il 5 agosto 1789 l'Assemblea nazionale decise di varare alcuni decreti. Leggete attentamente la fonte riportata qui sotto, che si riferisce a un decreto approvato nel corso di tale seduta.
Che cosa sanciva tale decreto?

(1 punto)

L'Assemblea nazionale abbatte completamente il regime feudale e decreta che, nei diritti e nei doveri, sia feudali che censuali, quelli che hanno relazione alla manomorta, reale o personale e alla servitù personale, e quelli che li rappresentano, sono aboliti senza indennità; e tutti gli altri dichiarati riscattabili; e che il prezzo e la modalità del riscatto saranno fissati dall'Assemblea nazionale.

(Fonte: <http://www.lastoria.org/1789/89.30.decreto.htm>)

18. Il 26 agosto 1789, l'Assemblea Nazionale approvò la Dichiarazione dei diritti dell'uomo e del cittadino.
Leggete l'articolo 3 della Dichiarazione, riportato qui sotto, e rispondete alle seguenti domande:
Chi divenne il massimo organo sovrano della Francia a seguito della dichiarazione?
Chi era l'autore che già prima della rivoluzione sosteneva la posizione espressa dal testo?

(2 punti)

Art. 3

Il principio di ogni sovranità risiede essenzialmente nella nazione. Nessun corpo, nessun individuo può esercitare un'autorità che non emani espressamente da essa.

(Fonte: Camera, A., 1980: *Storia* 2, pag. 229, Zanichelli, Bologna)

19. Nel settembre del 1791 la Francia approvò una nuova costituzione.
Qual era la nuova forma di governo della Francia in base a tale costituzione?
In quale modo tale forma di governo limitava il potere del re ?

(2 punti)

Non vi è in Francia autorità superiore a quella della Legge. Il Re non regna che per essa, e solo in nome della Legge egli può esigere obbedienza.

(Fonte: trad. da Hozjan, A., in Potočnik, D., 2000: *Zgodovina* 2, pag. 304. DZS. Ljubljana)

20. Col tempo, la rivoluzione portò ad un confronto diretto tra le diverse fazioni e le diverse personalità politiche. Inserite le lettere che precedono i nomi della colonna di sinistra nei rispettivi spazi vuoti della colonna di destra.

(3 punti)

A Vandea	_____	Nato in Svizzera, a Parigi pubblica un giornale rivoluzionario, subito popolare, che porta il nome di <i>l'Amico del popolo</i> ; ricopre un ruolo decisivo per l'emarginazione dei girondini; ucciso da una giovane fanatica mentre fa il bagno.
B Jean Paul Marat	_____	Dispositivo utilizzato per la decapitazione.
C Girondini	_____	Regione teatro di un'insurrezione, strumentalizzata dai nobili, contro l'autorità rivoluzionaria e a sostegno di quella regia.
D Georges Jacques Danton	_____	Rappresentavano la classe media, più moderati del club dei <i>giacobini</i> dai quali si separarono successivamente. I loro <i>leaders</i> provengono principalmente dal distretto della Gironda.
E Montagnardi	_____	Rappresentanti dell'ala più radicale del club dei <i>giacobini</i> . Sostengono le istanze della piccola borghesia, degli operai e dei contadini. Noti per le proprie posizioni radicali.
F Ghigliottina	_____	Giurista, uno dei più validi oratori della rivoluzione francese. Fondatore del club dei <i>cordiglieri</i> , ministro della giustizia per breve tempo, messo a morte da Robespierre perché contrario alla violenza sommaria.

21. Una delle personalità più controverse della rivoluzione francese fu il re Luigi XVI. In quale modo il re cercò di sottrarsi al controllo del popolo e del nuovo governo rivoluzionario? Quale fu la fine del re?

(2 punti)

22. Nel corso del 1793 il governo della Francia fu assunto dai politici più radicali, che imposero la dittatura dei giacobini.
Indicate una causa dell'introduzione della dittatura.
Quale comitato reggeva la dittatura e chi ne era il responsabile?
Elencate due provvedimenti approvati dal governo nel periodo della dittatura.

(4 punti)

23. Con la decapitazione di Robespierre si concluse il periodo della dittatura giacobina.
Indicate il nome del governo introdotto in Francia dopo la fine della dittatura giacobina.

(1 punto)

24. Nel 1799 Napoleone prese il potere in seguito ad un colpo di stato.
Il contributo di tale personalità in campo giuridico si concretizzò con l'introduzione di un nuovo codice.
Indicate il nome del codice in questione.
Indicate due conquiste della rivoluzione che furono mantenute anche in tale codice.

(3 punti)

25. Ordinate cronologicamente gli eventi indicati qui sotto inserendo negli spazi vuoti che li precedono le seguenti date: 1789, 1793, 1794, 1799, 1804, 1815.

(3 punti)

- _____ Napoleone si autoproclama imperatore
_____ Battaglia di Waterloo
_____ Introduzione del consolato
_____ Esecuzione del re
_____ Morte di Robespierre
_____ Presa della Bastiglia

Pagina bianca

Pagina bianca