



Šifra kandidata:

**Državni izpitni center**



M 2 5 1 5 0 1 1 1

SPOMLADANSKI IZPITNI ROK

# **GEOGRAFIJA**

**≡≡≡ Izpitna pola 1 ≡≡≡**

Obča geografija – Regionalna geografija sveta in Evrope

**Torek, 3. junij 2025 / 90 minut**

*Dovoljeno gradivo in pripomočki:  
Kandidat prinese nalivecno pero ali kemični svinčnik.  
Izpitni poli je priložena barvna priloga.*

**SPLOŠNA MATURA**

## **NAVODILA KANDIDATU**

**Pazljivo preberite ta navodila.**

**Ne odpirajte izpitne pole in ne začenjajte reševati nalog, dokler vam nadzorni učitelj tega ne dovoli.**

Prilepite kodo oziroma vpišite svojo šifro (v okvirček desno zgoraj na tej strani).

Izpitna pola vsebuje 25 nalog. Število točk, ki jih lahko dosežete, je 50. Za posamezno nalogo je število točk navedeno v izpitni poli.

Rešitve pišite z nalivnim peresom ali s kemičnim svinčnikom v izpitno polo v za to predvideni prostor **znotraj okvirja**.

Pišite čitljivo. Če se zmotite, napisano prečrtajte in rešitev zapišite na novo. Nečitljivi zapisi in nejasni popravki bodo ocenjeni z 0 točkami.

Zaupajte vase in v svoje zmožnosti. Želimo vam veliko uspeha.

*Ta pola ima 16 strani (1–16), od tega 4 prazne.*

*Barvna priloga ima 4 strani (17–20).*













## Svet 1

6. Na sliki 7 v barvni prilogi so s črkami A, B in C označeni Japonsko otočje, Gangeško nižavje in Dekanska planota. Izpišite črko pokrajine z najstarejšimi kamninami in črko pokrajine z najmlajšimi kamninami.

Črka pokrajine z najstarejšimi kamninami: \_\_\_\_\_

Črka pokrajine z najmlajšimi kamninami: \_\_\_\_\_

(2 točki)

7. Imenujte mladonagubano gorovje na severozahodu Afrike in opišite vzrok za njegov nastanek.

Ime gorovja: \_\_\_\_\_

Opis: \_\_\_\_\_

(2 točki)

8. S pomočjo slike 8 v barvni prilogi pred vsako trditvijo napišite DA, če je pravilna, in NE, če je napačna.

\_\_\_\_\_ Kuba leži na isti litosferski plošči kot Argentina.

\_\_\_\_\_ Indonezija je potresno bolj ogrožena kot Južnoafriška republika.

\_\_\_\_\_ Evrazijska litosferska plošča je na severu tektonsko manj aktivna kot na jugu.

(2 točki)

9. Pojasnite eno razliko v reliefu ali po nastanku med Jezerskim višavjem in Zmajevimi gorami.

\_\_\_\_\_

\_\_\_\_\_

\_\_\_\_\_

(2 točki)

10. S pomočjo besedila pojasnite vpliv reliefa na veliko količino padavin na severovzhodu Indije.

Cherrapunji v hribovju Khasi na severovzhodu Indije ima dva deževna svetovna rekorda. Prvi je največja količina dežja, ki je padla v enem letu: med avgustom 1860 in julijem 1861 je namreč padlo 26470 milimetrov oziroma skoraj 26,5 metra dežja. V Cherrapunjiju so zabeležili tudi najbolj deževen mesec: julija 1861 je padlo 9296 milimetrov dežja.

(Vir: <https://siol.net/trendi/potovanja/najbolj-dezevni-kraji-na-svetu-281104>. Pridobljeno: 2. 10. 2023.)

\_\_\_\_\_

\_\_\_\_\_

\_\_\_\_\_

(2 točki)





13. Obkrožite črki pred pravilnima trditvama o gospodarstvu Latinske Amerike.

- A Brazilski regiji Jugovzhod in Severovzhod sta si glede gospodarskega razvoja zelo različni, Jugovzhod je gospodarsko najmočnejša regija, Severovzhod pa gospodarsko najrevnejši del Brazilije.
- B V Amazoniji so zelo velike govedorejske farme, ki so večinoma v tuji lasti.
- C Andske države, ki ležijo na gorovju iz starejšega zemeljskega obdobja, so znane po nahajališčih različnih rud, vendar je pomen rudarstva v zadnjih letih upadel.
- D Kolonialna preteklost in tradicija pridelovanja kakovostnega bombaža vplivata na to, da je bombaž še vedno glavni izvozni artikel Kube.

(2 točki)

14. Pojasnite enega izmed gospodarskih ukrepov, ki so vplivali na razvoj v besedilu opisanega območja.

Konec sedemdesetih let je v Shenzhenu, podeželskem kraju tik ob meji s Hongkongom, živelo le okoli 80 000 ljudi. Ko so tam ustanovili posebno gospodarsko cono, se je v naslednjih desetletjih Shenzhen spremenil v najhitreje rastoče (vele)mesto v človeški zgodovini. Včasih je veljal za tovarno sveta, danes pa je dom kitajskih tehnoloških velikanov. To kitajsko mesto je pogosto navedeno kot glavna kitajska protiutež ameriški Silicijevi dolini. Tam se kopičijo obetavna zagonska podjetja, obenem pa se pospešeno razvija tehnologija prihodnosti, med drugim imata v mestu sedež podjetji Tencent in Huawei.

(Prirejeno po: <https://svetkapitala.delo.si/ikonomija/v-kitajskem-mestu-shenzhen-prva-samostojna-pokritost-z-omrezjem-5g/>. Pridobljeno: 31. 8. 2023.)

---

---

---

(2 točki)

15. Slika 9 v barvni prilogi prikazuje spreminjanje količine padavin v mm na desetletje v obdobju 1950–2015 v Avstraliji. Pojasnite vpliv omenjenih sprememb na območju Avstralije, označenem s črko A, na kmetijstvo.

---

---

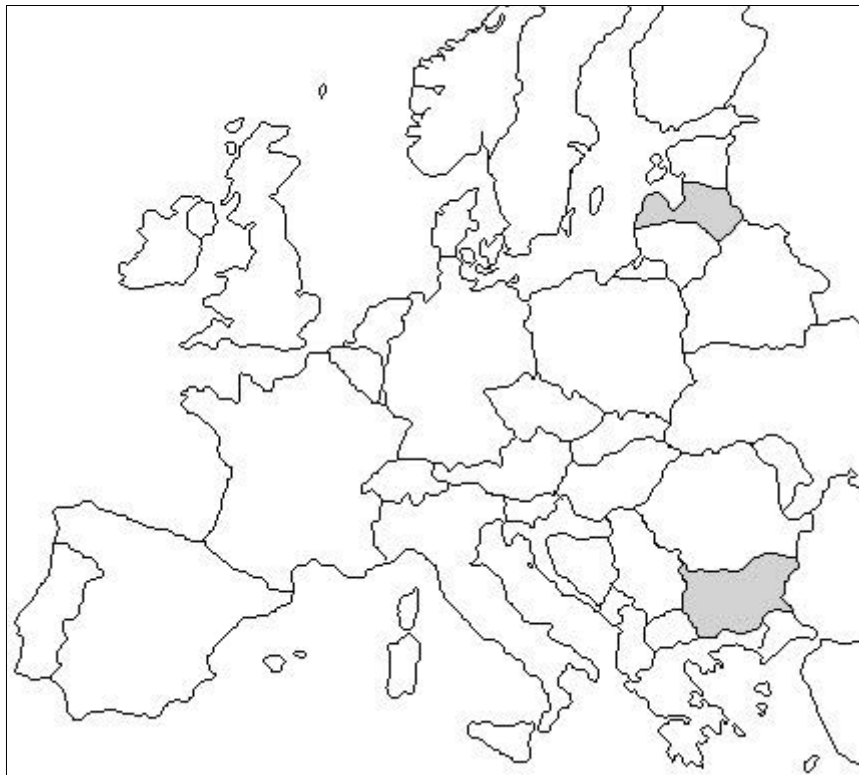
---

(2 točki)





18. V vsako osenčeno državo na sliki 3 vpišite eno črko trditve, ki najbolje opisuje značilnosti osenčene države.



Slika 3

(Prirejeno po: <https://www.enchantedlearning.com/geography/europe/outlinemap/map.GIF>. Pridobljeno: 4. 10. 2023.)

- A Vrhovi najvišjega gorovja v državi so bili močno preoblikovani v času pleistocenske poledenitve.
- B Na površje države, ki je prekrito s sedimenti, je močno vplivala gorska poledenitev v pleistocenu.
- C Nižavje na severu države, ki je nastalo tudi s tektonskim ugrezanjem, je prekrito s kvartarnimi nanosi.
- D Predkambrijske kamnine so razgaljene in segajo do površja.
- E V osrednjem delu države se razprostira mladonagubano gorovje, ki proti zahodu prehaja v Dinarsko gorstvo.
- F Poleg morenskega gradiva se pojavljajo tudi morski in rečni nanosi.

(2 točki)





## Evropa 2

21. Imenujte srednjeevropsko državo, kjer govorijo jezik, ki spada v ugrofinsko skupino jezikov, in obkrožite jezikovno skupino, v katero spada jezik, ki ga govorijo v državi, ki je na sliki 5 v nalogi 23 označena s črko B.

Ime države: \_\_\_\_\_

JEZIKOVNA SKUPINA:    germanska    slovanska    romanska    keltska    baltska

(2 točki)

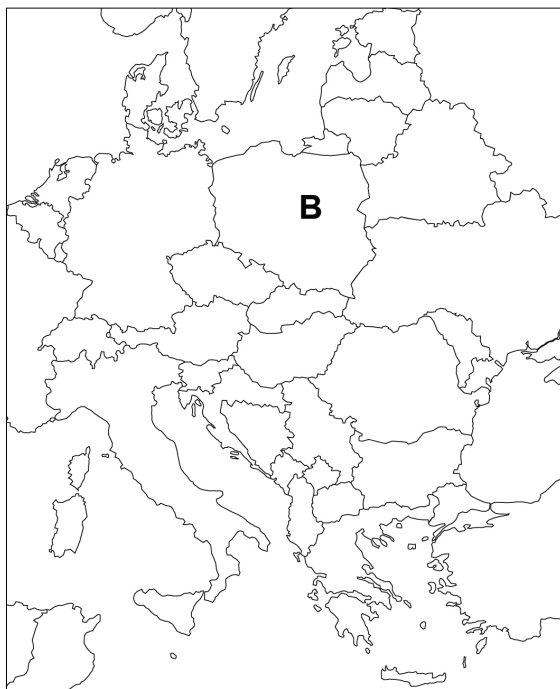
22. Po priključitvi ukrajinskega polotoka Krim k Rusiji leta 2014 se je rusifikacija še okrepila. Opišite dve spremembi za prebivalstvo polotoka, ki sta posledici tega procesa.

1 \_\_\_\_\_

2 \_\_\_\_\_

(2 točki)

23. Na sliki 5 na ozemlju Severne Makedonije vrišite X in opišite vzrok za zmanjšanje deleža večinskega prebivalstva na severozahodu države v zadnjih 50 letih.



Slika 5

(Prirejeno po: [www.freeusandworldmaps.com/images/World\\_Regions\\_Print/EEuropePrintNoText.jpg](http://www.freeusandworldmaps.com/images/World_Regions_Print/EEuropePrintNoText.jpg).  
Pridobljeno: 9. 8. 2023.)

Opis: \_\_\_\_\_

\_\_\_\_\_

(2 točki)







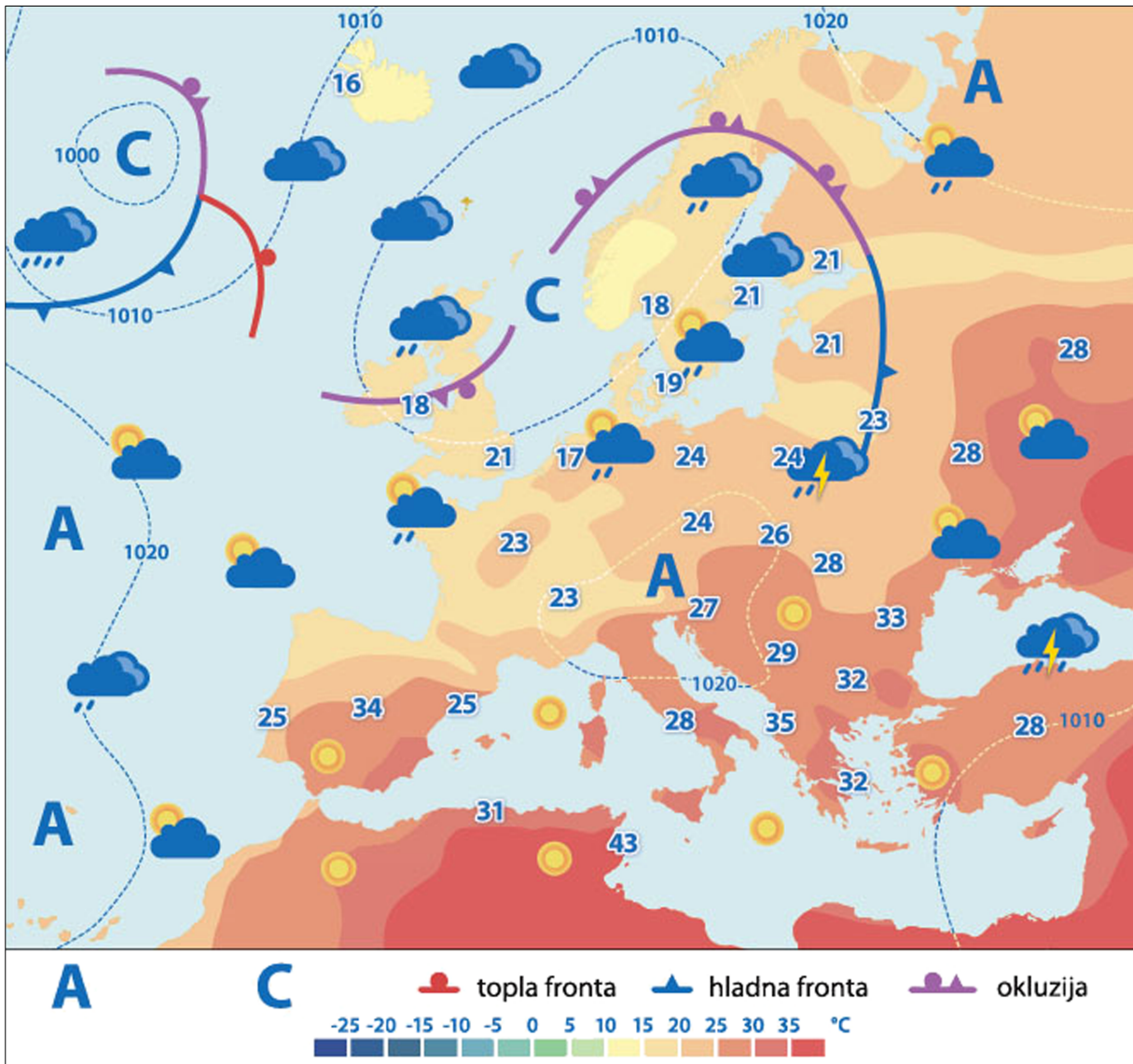






M 2 5 1 5 0 1 1 1 1 7

**Barvna priloga (k Izpitni poli 1)**



Slika 6

(Prirejeno po: Senegačnik, J., 2022: Geografija sodobne Slovenije 1: učbenik za 3. letnik gimnazije, str. 29. Modrijan Izobraževanje. Ljubljana)

V sivo polje ne pišite. V sivo polje ne pišite. V sivo polje ne pišite. V sivo polje ne pišite. V sivo polje ne pišite. V sivo polje ne pišite. V sivo polje ne pišite. V sivo polje ne pišite. V sivo polje ne pišite. V sivo polje ne pišite.









