



Codice del candidato:

Državni izpitni center



M 2 5 1 5 0 1 3 1 I

SESSIONE PRIMAVERILE

GEOGRAFIA

≡ Prova d'esame 1 ≡

Geografia generale – Geografia regionale del Mondo e d'Europa

Martedì, 3 giugno 2025 / 90 minuti

Materiali e sussidi consentiti:

Al candidato è consentito l'uso della penna stilografica o della penna a sfera.

La prova d'esame comprende un allegato a colori.

MATURITÀ GENERALE

INDICAZIONI PER I CANDIDATI

Leggete con attenzione le seguenti indicazioni.

Non aprite la prova d'esame e non iniziate a svolgerla prima del via dell'insegnante preposto.

Incollate o scrivete il vostro numero di codice negli spazi appositi su questa pagina in alto a destra.

La prova d'esame si compone di 25 quesiti, risolvendo correttamente i quali potete conseguire fino a un massimo di 50 punti. Il punteggio conseguibile in ciascun quesito viene di volta in volta espressamente indicato.

Scrivete le vostre risposte all'interno della prova, **nei riquadri appositamente previsti**, utilizzando la penna stilografica o la penna a sfera. Scrivete in modo leggibile: in caso di errore, tracciate un segno sulla risposta scorretta e scrivete accanto ad essa quella corretta. Alle risposte e alle correzioni scritte in modo illeggibile verranno assegnati 0 punti.

Abbiate fiducia in voi stessi e nelle vostre capacità. Vi auguriamo buon lavoro.

La prova si compone di 16 pagine (1-16), di cui 4 vuote. L'allegato a colori si compone di 4 pagine (17-20).

Non scrivete nel campo grigio. Non scrivete nel campo grigio. Non scrivete nel campo grigio. Non scrivete nel campo grigio. Non scrivete nel campo grigio. Non scrivete nel campo grigio. Non scrivete nel campo grigio. Non scrivete nel campo grigio. Non scrivete nel campo grigio. Non scrivete nel campo grigio.



Pagina vuota

VOLTATE IL FOGLIO.



Geografia generale

1. Cerchiate fra i termini elencati il fattore climatico, e spiegate l'influsso dei rilievi sulla temperatura.
precipitazioni radiazione solare disposizione delle terre emerse e del mare onde marine

Spiegazione: _____

_____ (2 punti)

2. Indicate il tipo di clima rappresentato dal climogramma nella figura 1 e l'escursione termica annua di questa località (non dimenticate l'unità corrispondente).

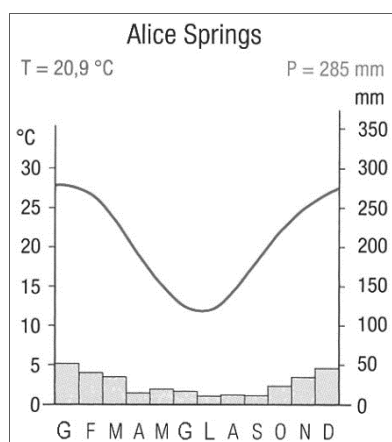


Figura 1

(Fonte: Baloh, E., et al., 2017: Geografija 1. Učbenik za geografijo v 1. letniku gimnazij in srednjih strokovnih šol, p. 70. Modrijan Izobraževanje. Ljubljana)

Tipo di clima: _____

Escursione termica: _____

(2 punti)

3. Con riferimento alla figura 6 dell'allegato a colori, indicate il campo di pressione atmosferica che influisce sul tempo meteorologico nell'Europa meridionale e riportate il valore di due elementi climatici in Slovenia.

Campo di pressione atmosferica: _____

Valore di due elementi climatici:

1 _____

2 _____

(2 punti)



Il mondo 1

6. Nella figura 7 dell'allegato a colori le lettere A, B e C contrassegnano l'arcipelago giapponese, la Pianura del Gange e il Tavolato del Deccan. Trascrivete la lettera che contrassegna la regione con le rocce più antiche e quella che contrassegna la regione con le rocce di origine più recente.

Lettera della regione con le rocce più antiche: _____

Lettera della regione con le rocce più recenti: _____

(2 punti)

7. Indicate la catena montuosa giovane situata nel nord-ovest dell'Africa e descrivete la causa della sua formazione.

Nome della catena montuosa: _____

Descrizione: _____

(2 punti)

8. Con l'ausilio della figura 8 dell'allegato a colori, per ciascuna affermazione scrivete SÌ se essa è corretta oppure NO se è errata.

_____ Cuba si trova sulla medesima placca dell'Argentina.

_____ In Indonesia il rischio sismico è maggiore rispetto a quello nella Repubblica del Sudafrica.

_____ Sotto l'aspetto tettonico la placca euroasiatica è meno attiva nella parte settentrionale rispetto a quella meridionale.

(2 punti)

9. Spiegate una differenza nella morfologia o nella formazione tra l'Altopiano dei Laghi e i Monti dei Draghi.

(2 punti)

10. Con l'ausilio del testo spiegate l'influsso dei rilievi sulla grande quantità di precipitazioni nel nord-est dell'India.

La località di Cherrapunji, situata nelle montagne del Khasi nel nord-est dell'India, detiene due record mondiali di piovosità. Il primo è la più elevata piovosità in un anno: tra agosto del 1860 e luglio del 1861 sono caduti 26470 millimetri ovvero quasi 26,5 metri di pioggia. A Cherrapunji si è registrato anche il mese più piovoso: nel luglio del 1861 ci sono stati 9296 millimetri di pioggia.

(Fonte: <https://siol.net/trendi/potovanja/najbolj-dezevni-kraji-na-svetu-281104>. Data di consultazione: 2. 10. 2023.)

(2 punti)



Il mondo 2

11. Indicate la regione (fascia) agricola negli Stati Uniti che nella figura 2 è contrassegnata dalla lettera A. Descrivete la causa geografico-antropica della sua formazione.

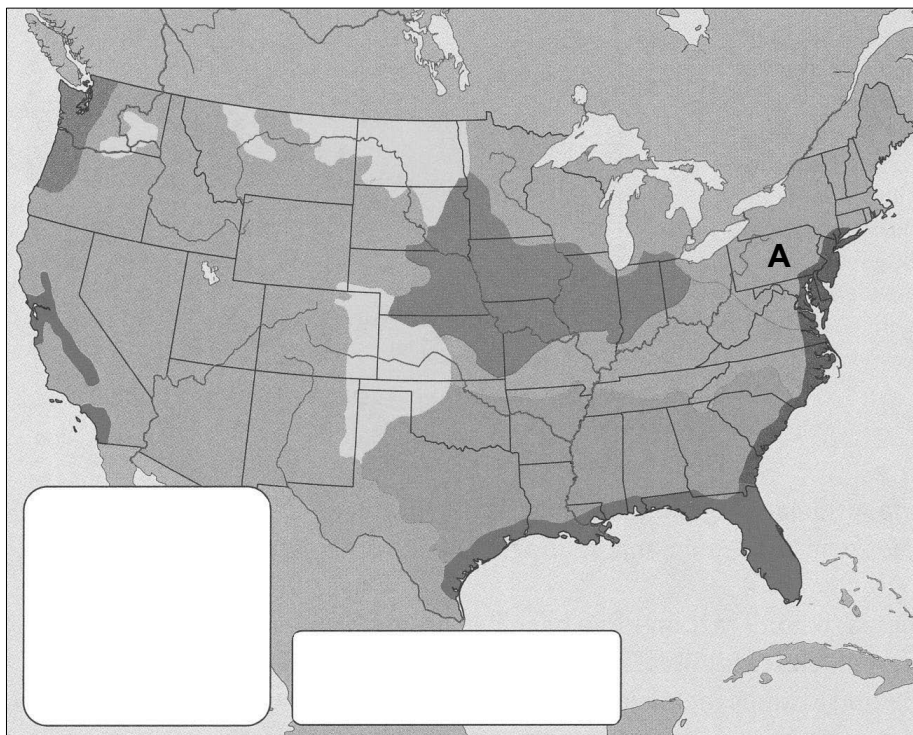


Figura 2

(Fonte: Senegačnik, J., 2020: Geografija sodobnega sveta: učbenik za 2. letnik gimnazije, p. 110. Modrijan Izobraževanje. Ljubljana)

Regione (fascia) agricola: _____

Causa geografico-antropica: _____

(2 punti)

12. Indicate il paese africano in cui l'allevamento commerciale è maggiormente sviluppato. Tra quelle elencate, cerchiare la prevalente forma di allevamento nel paese indicato.

Paese: _____

FORMA DI ALLEVAMENTO: in stalla da latte al pascolo specializzato

(2 punti)



13. Cerchiate le lettere dinanzi alle due affermazioni corrette sull'economia dell'America meridionale.

- A Le regioni brasiliane del Sud Est e del Nord Est si differenziano notevolmente sotto l'aspetto dello sviluppo economico: il Sud Est è la regione economicamente più forte, mentre il Nord Est quella economicamente più fragile del Brasile.
- B In Amazzonia si trovano enormi proprietà agricole, prevalentemente di proprietà estera, destinate all'allevamento di bovini.
- C I paesi andini, situati in zone con montagne la cui formazione risale all'era geologica antica, sono noti per i giacimenti di diversi minerali. Tuttavia, negli ultimi anni, l'importanza dell'attività estrattiva è in calo.
- D Il passato coloniale e la tradizionale coltivazione di cotone di alta qualità hanno influito sul fatto che il cotone rappresenti, tutt'oggi, il principale prodotto d'esportazione di Cuba.

(2 punti)

14. Spiegate un intervento economico che ha influito sullo sviluppo della zona descritta nel testo.

Alla fine degli anni Settanta Shenzhen era una località rurale al confine con Hong Kong di soli 80 mila abitanti. Dopo che vi fu istituita la zona economica speciale, Shenzhen si trasformò, nei decenni successivi, nella città (metropoli) a più rapido sviluppo della storia dell'umanità. Conosciuta in passato come »fabbrica del mondo«, oggi ospita i giganti cinesi della tecnologia ed è spesso contrapposta alla Silicon Valley americana. Qui si concentrano le start-up promettenti e si assiste, contemporaneamente, a un accelerato sviluppo della tecnologia del futuro. Vi hanno sede, tra le altre, le aziende Tencent e Huawei.

(Adattato da: <https://svetkapitala.delo.si/ikonomija/v-kitajskem-mestu-shenzhen-prva-samostojna-pokritost-z-omrezjem-5g/>. Data di consultazione: 31. 8. 2023.)

(2 punti)

15. La figura 9 dell'allegato a colori rappresenta la variazione della quantità di precipitazioni (in millimetri) per decennio nel periodo 1950-2015 in Australia. Spiegate l'influsso dei cambiamenti raffigurati sull'agricoltura nella zona dell'Australia contrassegnata dalla lettera A.

(2 punti)



Europa 1

16. Cerchiate la lettera dinanzi al titolo corretto della figura 10 dell'allegato a colori.

- A Carta morfologica dell'Europa.
- B Carta litologica dell'Europa.
- C Unità tettoniche dell'Europa.

(1 punto)

17. Nella legenda della figura 10 dell'allegato a colori le lettere A, B, C e D contrassegnano quattro zone dell'Europa. Trascrivete la lettera della zona con i rilievi più antichi e descrivete due caratteristiche della formazione della zona che nella figura 10 è contrassegnata dalla lettera C.

I rilievi più antichi si trovano nella zona contrassegnata dalla lettera _____.

Caratteristiche della formazione della zona contrassegnata dalla lettera C:

1 _____

2 _____

(3 punti)



18. In ciascun paese evidenziato in grigio nella figura 3, inserite la lettera che precede l'affermazione che meglio descrive le caratteristiche del paese evidenziato.

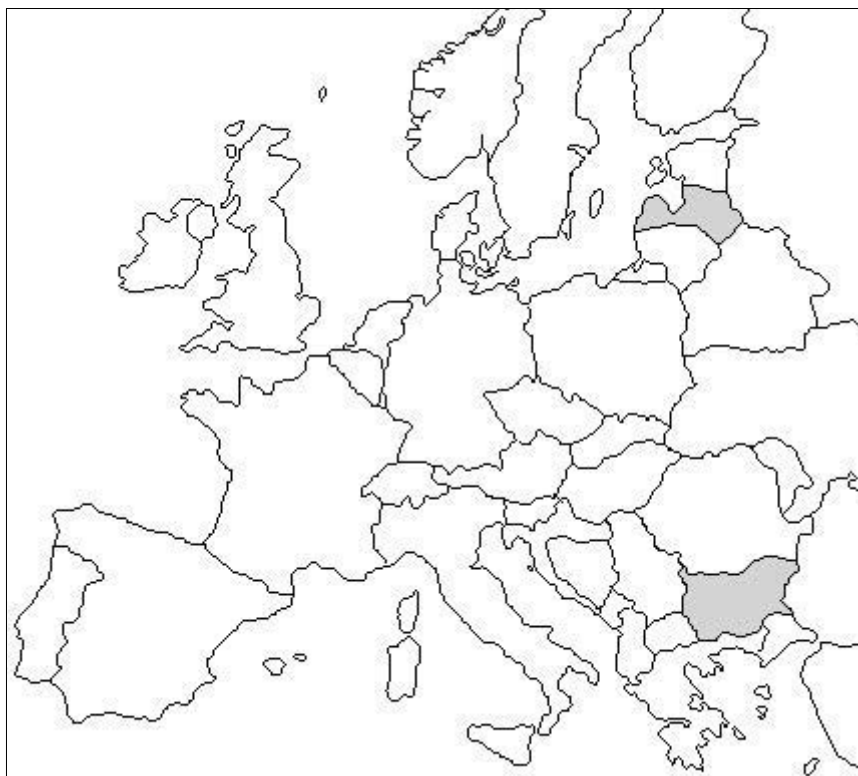


Figura 3

(Adattato da: <https://www.enchantedlearning.com/geography/europe/outlinemap/map.GIF>. Data di consultazione: 4. 10. 2023.)

- A Le cime del sistema montuoso più alto sono state fortemente modellate durante le glaciazioni del Pleistocene.
- B Sulla morfologia del territorio, oggi coperto da sedimenti, ha fortemente inciso la glaciazione montana del Pleistocene.
- C La pianura nel nord del paese, formatasi anche in conseguenza dello sprofondamento tettonico, è coperta da depositi del Quaternario.
- D Le rocce di età precambriana sono affiorate in superficie e sono pertanto prive di copertura.
- E Nella parte centrale del paese si trova un sistema montuoso giovane che a ovest prosegue nelle Alpi Dinariche.
- F Oltre a materiale morenico, vi si trovano anche depositi di origine marina e fluviale.

(2 punti)



19. Spiegate la formazione del tipo di costa rappresentato nella figura 4 e cerciate la zona in Europa, di cui tale costa è caratteristica.

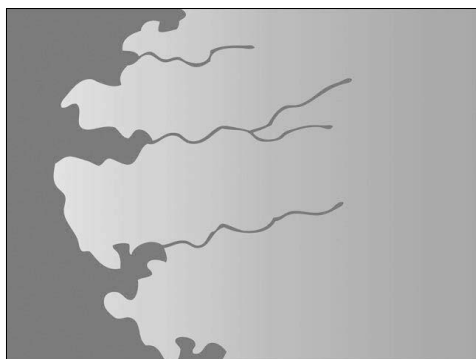


Figura 4

(Adattato da: https://eucbeniki.sio.si/geo1/2850/3_3_3-10.jpg. Data di consultazione: 4. 10. 2023.)

Spiegazione: _____

ZONA: nord-ovest della Spagna coste del Mar Baltico ovest della Francia

(2 punti)

20. Con la descrizione della causa e delle conseguenze spiegate la seguente affermazione.

Gli eventi geologici, avvenuti nel periodo Terziario in conseguenza dei processi di modellamento endogeni, hanno influito in modo determinante sullo sviluppo economico delle zone di media montagna in Europa.

(2 punti)



Europa 2

21. Indicate il paese dell'Europa centrale in cui si parla una lingua appartenente al gruppo linguistico ugrofinnico, e cerchiare il gruppo linguistico di cui fa parte la lingua parlata nel paese che nella figura 5 nell'esercizio 23 è contrassegnato dalla lettera B.

Nome del paese: _____

GRUPPO LINGUISTICO: germanico slavo neolatino celtico baltico

(2 punti)

22. A seguito dell'annessione della Crimea alla Russia, avvenuta nel 2014, la russificazione si è intensificata. Descrivete due cambiamenti che la popolazione della penisola ha subito in conseguenza di tale processo.

1 _____

2 _____

(2 punti)

23. Inserite nella figura 5 una X in corrispondenza del territorio della Macedonia del Nord e descrivete la causa della diminuzione della percentuale della popolazione di maggioranza nel nord-ovest del paese negli ultimi 50 anni.



Figura 5

(Adattato da: www.freeusandworldmaps.com/images/World_Regions_Print/EEuropePrintNoText.jpg.
Data di consultazione: 9. 8. 2023.)

Descrizione: _____

(2 punti)



24. Completate le due affermazioni che si riferiscono alla questione nordirlandese.

A causa del sostegno al rafforzamento dei legami con la Gran Bretagna, i discendenti degli immigrati inglesi e scozzesi nell'Irlanda del Nord vengono chiamati _____.

Tra gli irlandesi dell'Irlanda del Nord la religione cristiana prevalente è _____, mentre tra gli inglesi è quella _____.

(2 punti)

25. La figura 11 dell'allegato a colori rappresenta la variazione della popolazione nelle singole regioni della Penisola iberica tra il 2001 e il 2011. Spiegate la causa di tale andamento della popolazione.

(2 punti)



Pagina vuota



Pagina vuota



M 2 5 1 5 0 1 3 1 1 1 7

Allegato a colori (alla Prova d'esame 1)

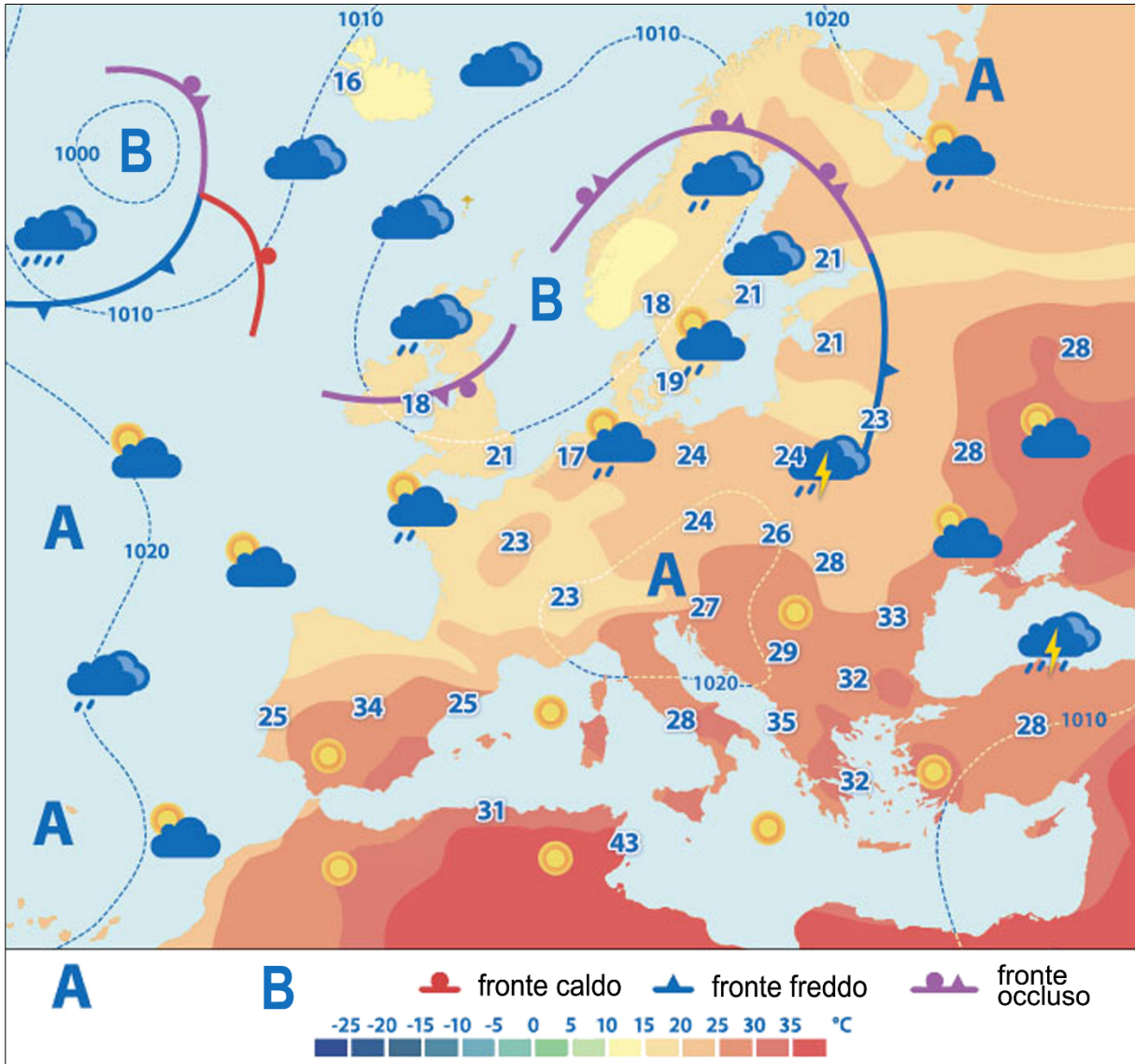


Figura 6

(Adattato da: Senegačnik, J., 2022: Geografija sodobne Slovenije 1: učbenik za 3. letnik gimnazije, p. 29. Modrijan izobraževanje. Ljubljana)

Non scrivete nel campo grigio. Non scrivete nel campo grigio. Non scrivete nel campo grigio. Non scrivete nel campo grigio. Non scrivete nel campo grigio.



Figura 7

(Adattato da: www.magicmurals.com/relief-map-of-asia.html. Data di consultazione: 3. 10. 2023.)

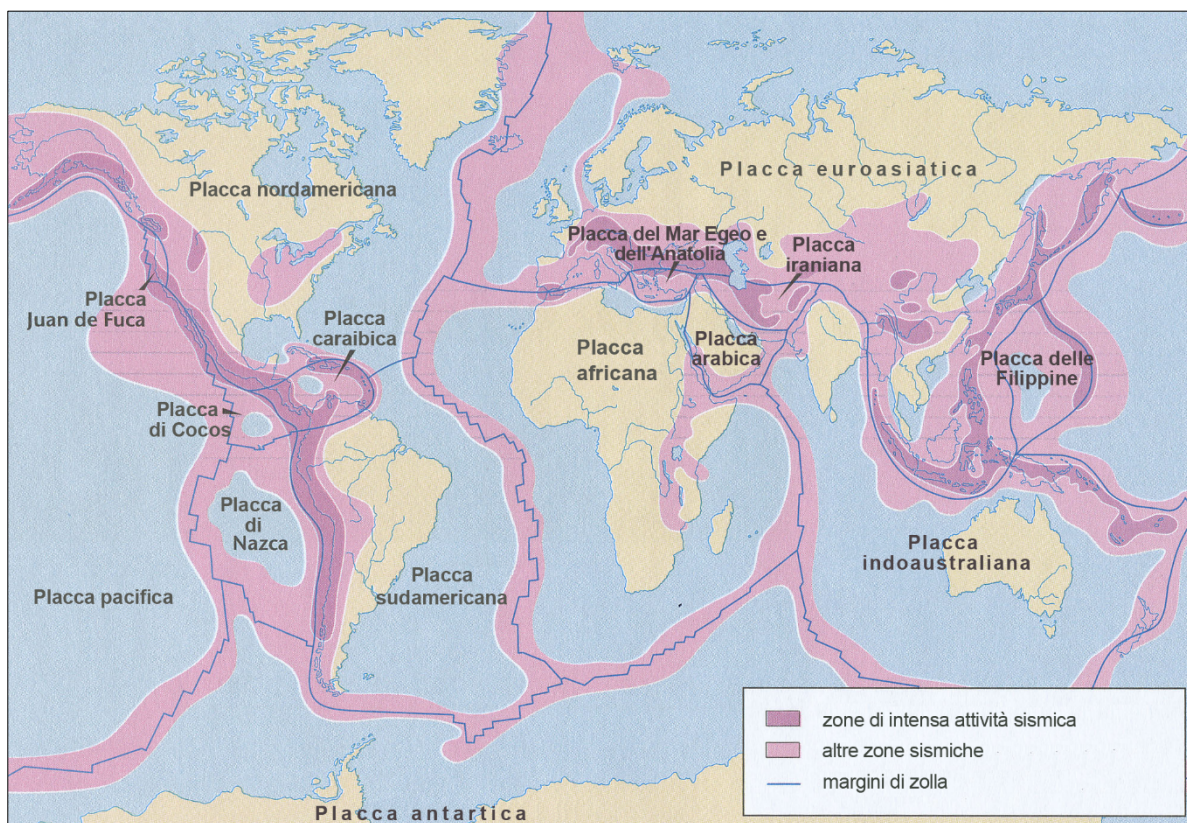


Figura 8: Zone sismiche nel mondo

(Fonte: Senegačnik, J., et al., 2019: Obča geografija za 1. letnik gimnazij, p. 25. Modrijan. Ljubljana)

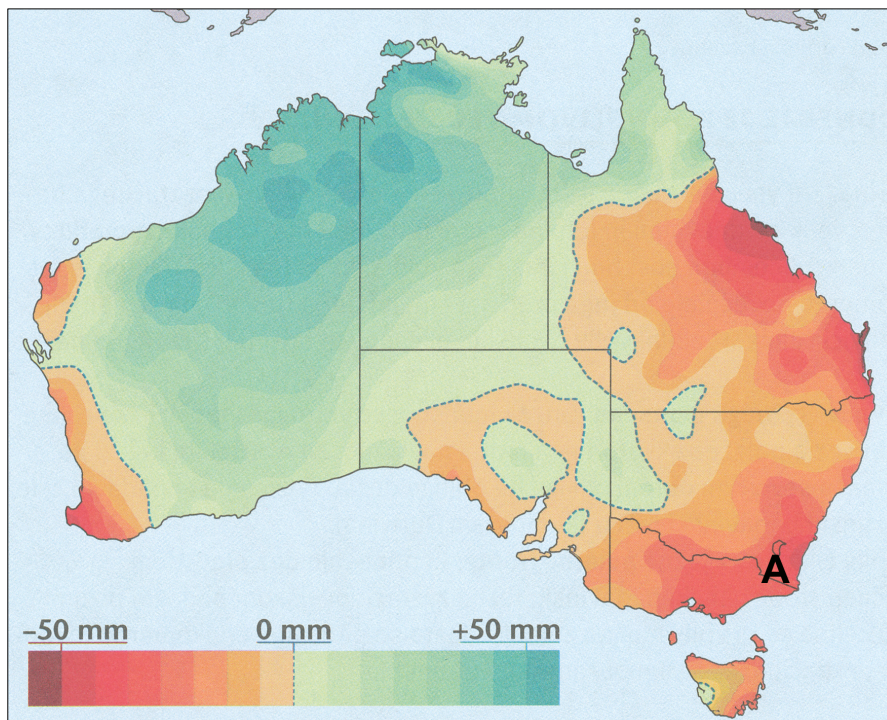


Figura 9

(Fonte: Senegačnik, J., 2020: Geografija sodobnega sveta: učbenik za 2. letnik gimnazije, p. 124. Modrijan Izobraževanje. Ljubljana)

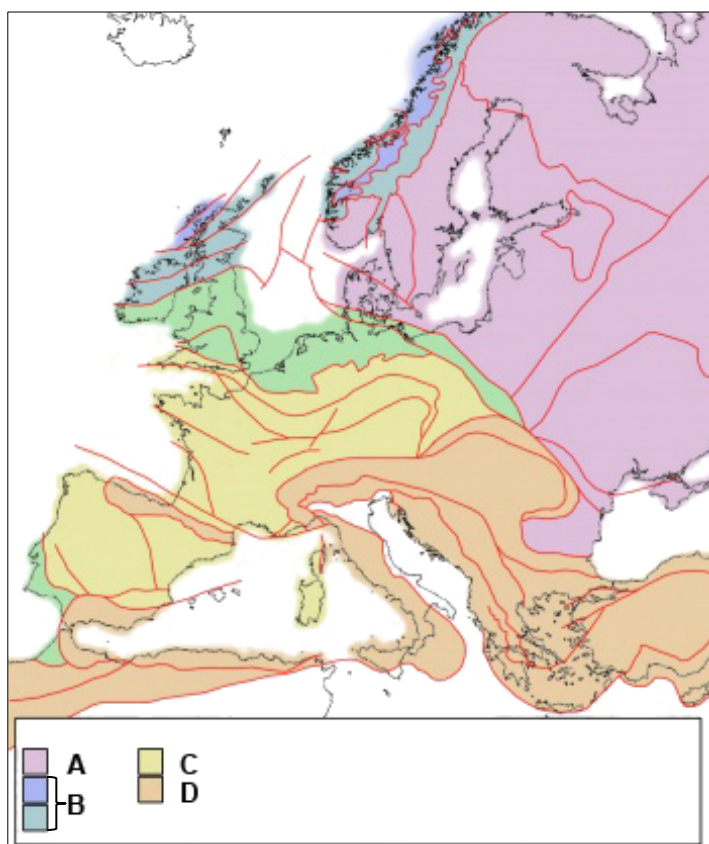


Figura 10

(Adattato da: https://nl.wikisage.org/w/images/thumb/0/0c/..._map_Europe.jpg/350px-..._map_Europe.jpg. Data di consultazione: 4. 10. 2023.)

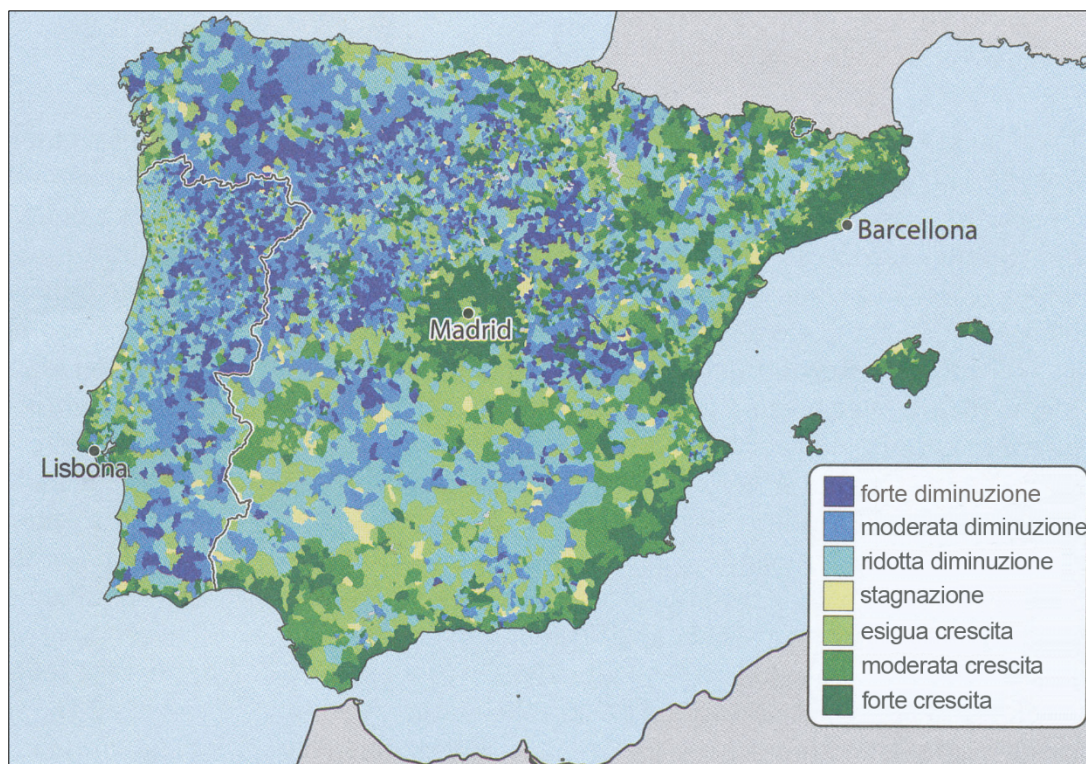


Figura 11

(Fonte: Senegačnik, J., 2021: Geografija sodobne Evrope. Učbenik za 2. in 3. letnik gimnazije, p. 109. Modrijan Izobraževanje. Ljubljana)