



Codice del candidato:

Državni izpitni center



SESSIONE PRIMAVERILE

GEOGRAFIA

≡ Prova d'esame 2 ≡

Geografia generale – Geografia della Slovenia e dell'Italia

Martedì, 3 giugno 2025 / 90 minuti

Materiali e sussidi consentiti:

Al candidato è consentito l'uso della penna stilografica o della penna a sfera.

La prova d'esame comprende un allegato a colori.

MATURITÀ GENERALE

INDICAZIONI PER I CANDIDATI

Leggete con attenzione le seguenti indicazioni.

Non aprite la prova d'esame e non iniziate a svolgerla prima del via dell'insegnante preposto.

Incollate o scrivete il vostro numero di codice negli spazi appositi su questa pagina in alto a destra.

La prova d'esame si compone di 25 quesiti, risolvendo correttamente i quali potete conseguire fino a un massimo di 50 punti. Il punteggio conseguibile in ciascun quesito viene di volta in volta espressamente indicato.

Scrivete le vostre risposte all'interno della prova, **nei riquadri appositamente previsti**, utilizzando la penna stilografica o la penna a sfera. Scrivete in modo leggibile: in caso di errore, tracciate un segno sulla risposta scorretta e scrivete accanto ad essa quella corretta. Alle risposte e alle correzioni scritte in modo illeggibile verranno assegnati 0 punti.

Abbiate fiducia in voi stessi e nelle vostre capacità. Vi auguriamo buon lavoro.

La prova si compone di 16 pagine (1-16), di cui 3 vuote. L'allegato a colori si compone di 4 pagine (17-20).

Non scrivete nel campo grigio. Non scrivete nel campo grigio. Non scrivete nel campo grigio. Non scrivete nel campo grigio. Non scrivete nel campo grigio. Non scrivete nel campo grigio. Non scrivete nel campo grigio. Non scrivete nel campo grigio. Non scrivete nel campo grigio. Non scrivete nel campo grigio.



Pagina vuota

VOLTATE IL FOGLIO.



Geografia generale

1. Indicate il termine con cui si designa la crescita delle città e l'assunzione di uno stile di vita urbano. Cerchiate tra quelle elencate l'attività volta all'ampliamento della base produttiva della città.

Termine: _____

ATTIVITÀ VOLTA ALL'AMPLIAMENTO DELLA BASE PRODUTTIVA DELLA CITTÀ:

negozio di alimentari trasporto pubblico urbano industria servizi comunali

(2 punti)

2. Cerchiate le lettere dinanzi alle due affermazioni valide per gli insediamenti sparsi.

- A Sono tipici dei crinali collinari della regione subpannonica.
 B Sono nati in conseguenza della suburbanizzazione.
 C Non hanno un centro caratteristico.
 D La principale fonte di reddito della popolazione è l'allevamento.
 E A volte vengono chiamati villaggi allungati.

(2 punti)

3. Con l'ausilio del testo e della figura 5 dell'allegato a colori, descrivete due fattori di localizzazione che hanno determinato la costruzione dello stabilimento rappresentato nella figura.

Con più di 800 dipendenti, la società tedesca Carthago, s. r. l., è considerata tra le maggiori aziende private in Slovenia. Al costante ampliamento dello stabilimento di successo di Odranci è seguito un altro importante passo: l'apertura di un nuovo impianto a Ormož. Qui si realizzerà soprattutto il popolare furgone Malibu van, che è considerato il pioniere dei furgonati convertiti a camper.

(Adattato da: www.priekija-on.net/lokalno/30483/tako-nastaja-nova-tovarna-v-ormozu.html. Data di consultazione: 23. 8. 2023.)

1 _____

2 _____

(2 punti)

4. Descrivete due conseguenze economiche e la conseguenza ambientale (oltre all'inquinamento) dell'attività della fabbrica nel paesaggio rappresentato nella figura 5 dell'allegato a colori.

Conseguenze economiche:

1 _____

2 _____

Conseguenza ambientale: _____

(2 punti)



Slovenia 1

6. Indicate il regime fluviale rappresentato nella figura 1 e una macroregione slovena, in cui scorre un fiume con tale regime fluviale.

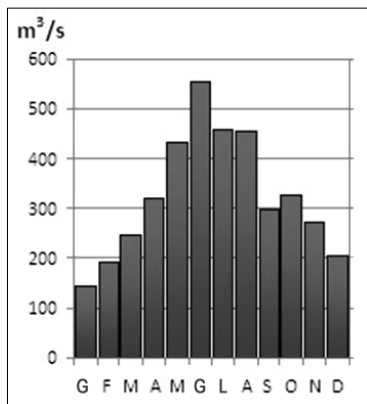


Figura 1

(Fonte: <https://eucbeniki.sio.si/geo9/2603/index8.html>. Data di consultazione: 1. 9. 2023.)

Regime fluviale: _____

Macroregione: _____

(2 punti)

7. Indicate il termine idrografico con cui si designano le zone sottoelencate. Descrivete una caratteristica idrografica positiva di tali zone (ambienti).
- paludi di Lubiana (Ljubljansko barje) saline di Sicciole meandri morti lungo il fiume Mura
polje di Cerknica torbiere del Pohorje

Termine: _____

Descrizione: _____

_____ (2 punti)

8. Cerchiate le lettere dinanzi alle due affermazioni corrette sulle acque in Slovenia.

- A I fiumi con un regime fluviale di tipo pluviale hanno portate massime nel periodo autunnale e invernale, e portate minime in estate.
- B In Slovenia, gli acquiferi carsici sono presenti esclusivamente nelle regioni dinarico-carsiche.
- C I laghi alpini d'alta quota sono il risultato dell'azione congiunta dei ghiacciai e della corrosione.
- D I fiumi della Slovenia ricadono nel bacino idrografico del Mar Adriatico.

(2 punti)



9. Spiegate il tasso di salinità del mare in Slovenia.

(2 punti)

10. Spiegate come verrà modellata, con molta probabilità, la sponda del fiume che nella figura 6 dell'allegato a colori è contrassegnata dalla lettera A.

(2 punti)



Slovenia 2

11. Tra quelli elencati, cerchiare il fattore che limita in maggior misura il settore agricolo in Slovenia e indicate il prevalente utilizzo del suolo (categoria dei terreni) in Slovenia.

aridità del suolo clima morfologia

Utilizzo del suolo: _____

(2 punti)

12. L'agricoltura è importante per la produzione di cibo. Con l'ausilio della figura 7 dell'allegato a colori descrivete altre due conseguenze antropico-geografiche positive dell'agricoltura nel paesaggio.

1 _____

2 _____

(2 punti)

13. Indicate la forma del territorio rappresentata nella figura 8 dell'allegato a colori e la forma di agricoltura/allevamento, in base all'impiego di capitali, che prevale nella regione in cui tali forme del territorio sono molto frequenti.

Forma del territorio: _____

Forma di agricoltura/allevamento: _____

(2 punti)

14. Nella figura 9 dell'allegato a colori le lettere A, B e C contrassegnano i climogrammi di tre località slovene. Abbinare a ciascuna lettera del climogramma riportata nella tabella la corrispondente categoria dei terreni (utilizzo del suolo). Utilizzate tutte e tre le categorie elencate e indicate per ciascun climogramma una sola categoria.

Scegliete tra: vigneti, prati e pascoli, oliveti.

Lettera del climogramma	Categoria dei terreni (utilizzo del suolo)
A	
B	
C	

(2 punti)



15. Spiegate due fattori geografico-antropici che ostacolano lo sviluppo del settore agricolo sloveno in confronto ai paesi UE con il settore agricolo più sviluppato.

1 _____

2 _____

(2 punti)



Geografia dell'Italia 1

16. Nella tabella sono riportate due affermazioni sulla varietà climatica in Italia. Per ciascuna affermazione indicate il fattore climatico che determina le differenze climatiche in essa descritte.

Caratteristica	Fattore climatico
A Reggio Calabria il periodo di accensione degli impianti di riscaldamento è più breve rispetto a quello a Venezia.	
L'Aquila ha un numero maggiore di giorni con precipitazioni nevose rispetto a Roma.	

(2 punti)

17. Indicate l'elemento climatico rappresentato nella carta sinottica della figura 2.

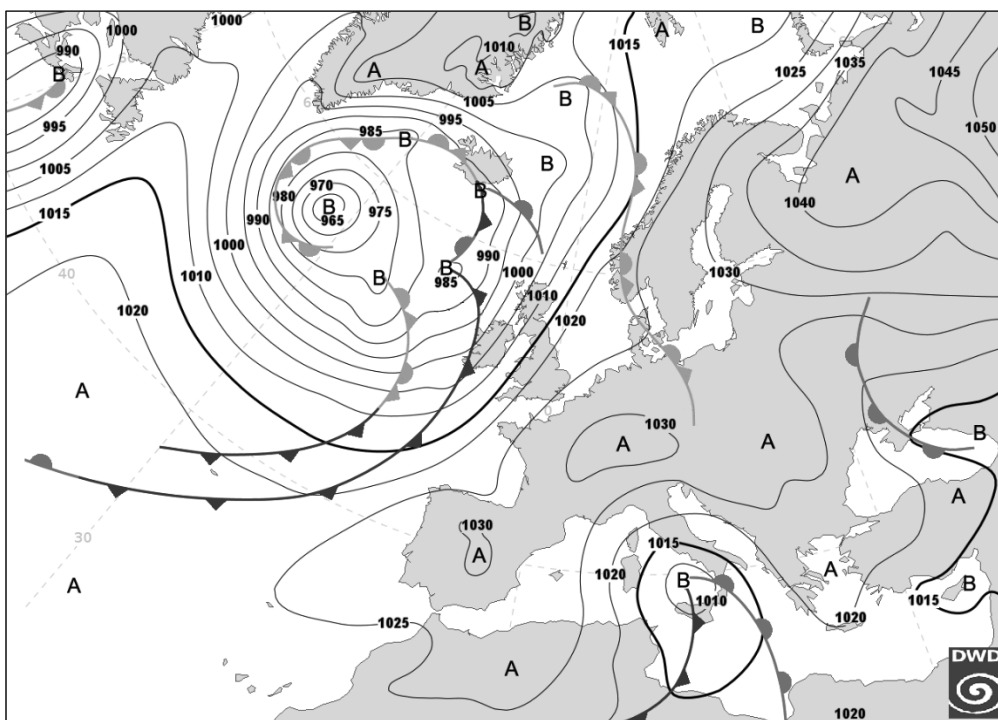


Figura 2

(Adattato da: https://www.dwd.de/DE/wetter/thema_des_tages/2022/11/25_Bild2.png?__blob=poster&v=1.
Data di consultazione: 27. 5. 2023.)

Elemento climatico: _____

(1 punto)



18. Con riferimento alla figura 2 dell'esercizio 17, cerchiare per ciascuna descrizione la regione in cui si è verificata più verosimilmente la situazione meteorologica in essa riportata. Indicate, inoltre, la stagione dell'anno in cui più frequentemente l'Italia versa nella situazione meteorologica rappresentata.

Tempo instabile tutto il giorno con piogge e temporali sparsi. Venti deboli o moderati dai quadranti settentrionali.

Sicilia Emilia-Romagna Toscana

Inizialmente cielo molto nuvoloso con piogge sparse. Al pomeriggio netto miglioramento con cielo poco nuvoloso o sereno.

Veneto Calabria Toscana

Stagione in cui si verifica la situazione meteorologica rappresentata: _____

(3 punti)

19. Spiegate l'influsso del campo di pressione atmosferica, da cui l'Italia è interessata in estate, sul tipo di precipitazioni estive.

(2 punti)

20. Con la descrizione della causa e delle conseguenze spiegate perché Milano è caratterizzata da una maggiore continentalità rispetto a Venezia.

(2 punti)



Geografia dell'Italia 2

21. Scegliete i completamenti corretti.

L'Italia è il primo produttore in Europa di **a g r u m i / p o m o d o r i**.

Nel contesto europeo, l'Italia è uno dei più importanti produttori di carne **s u i n a / b o v i n a**.

(2 punti)

22. Le figure 10 e 11 dell'allegato a colori rappresentano due paesaggi agricoli in Italia. Indicate per la figura 10 il tipo di allevamento in base all'impiego di risorse e all'intensità produttiva, e per la figura 11 il tipo di coltivazione in base alla selezione (varietà) delle colture.

Figura 10: _____

Figura 11: _____

(2 punti)

23. Le figure 3 e 4 rappresentano le superfici agricole per utilizzazione del terreno in due regioni italiane. Per ciascuna figura cerciate la regione a essa corrispondente scegliendola tra quelle proposte.

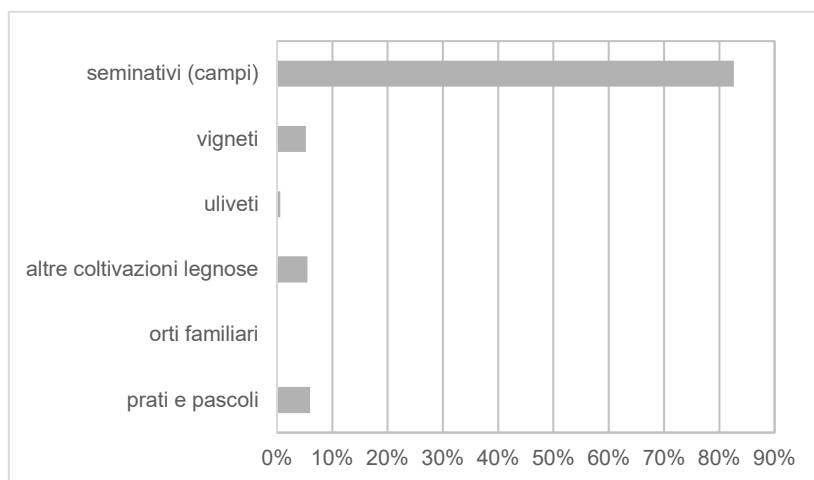


Figura 3

(Fonte: <https://www.istat.it/it/files/2022/08/censimento-agricoltura-2021.xlsx>. Data di consultazione: 3. 6. 2023.)

Sardegna

Emilia-Romagna

Calabria

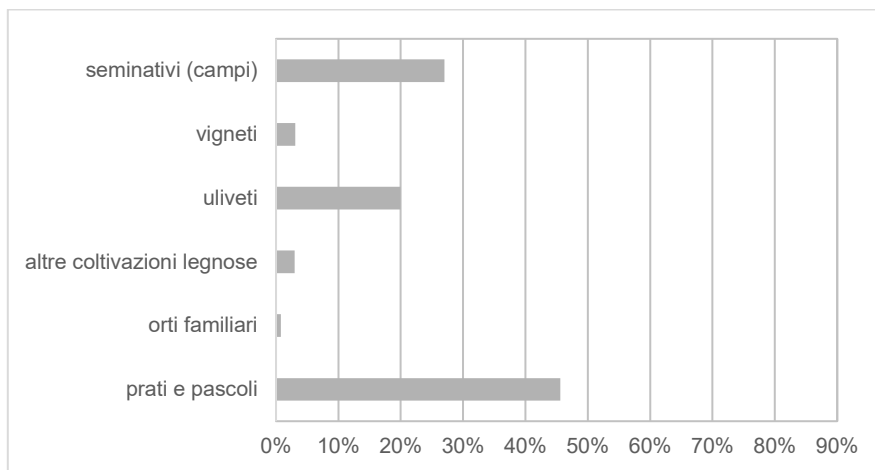


Figura 4

(Fonte: <https://www.istat.it/files//2022/08/censimento-agricoltura-2021.xlsx>. Data di consultazione: 3. 6. 2023.)

Trentino-Alto Adige Veneto Liguria

(2 punti)

24. Nella tabella 1 sono riportati i dati sulla gestione delle aziende agricole e delle relative superfici agricole utilizzate in Italia nel 2010 e 2020. Facendo riferimento alla tabella, indicate una possibile causa dei cambiamenti avvenuti tra i due censimenti nella gestione delle aziende. Confrontando i dati sul numero delle aziende e sulle superfici agricole utilizzate, indicate il cambiamento più rilevante emerso dal censimento del 2020.

Titolo di possesso	Aziende agricole			Superficie agricola utilizzata		
	Numero			Migliaia di ettari		
	2020	2010	Differenza % 2020/2010	2020	2010	Differenza % 2020/2010
Imprenditore/azienda individuale o familiare	1.059.204	1.557.881	-32,0	9.111	9.781	-6,9
Società di persone	54.927	47.773	15,0	2.283	1.797	27,1
Società di capitali	11.011	7.734	42,4	457	347	31,8
Società cooperativa	3.160	3.007	5,1	119	128	-6,7
Proprietà collettiva	2.495	2.233	11,7	482	610	-21,0
Altra forma giuridica	2.226	2.256	-1,3	83	194	-57,1
Totale	1.133.023	1.620.884	-30,1	12.535	12.856	-2,5

Tabella 1

(Fonte: https://www.istat.it/files//2022/06/REPORT-CENSIAGRI_2021-def.pdf. Data di consultazione: 3. 6. 2023.)

Causa: _____

Cambiamento più rilevante: _____

(2 punti)



25. Con la descrizione della causa e delle conseguenze spiegate le affermazioni del seguente testo.

Siccità: il Po a secco minaccia 1/3 del cibo italiano

3 marzo 2022

La siccità nel bacino del Po minaccia oltre 1/3 della produzione agricola nazionale e la metà dell'allevamento all'origine della food valley italiana conosciuta in tutto il mondo. Secondo l'Osservatorio sulle crisi idriche la situazione è grave e in peggioramento, con fino al 40% di portata in meno nelle sezioni esaminate del fiume e fino al 60% in meno negli affluenti.

(Adattato da: https://www.coldiretti.it/meteo_clima/siccita-il-po-a-secco-minaccia-1-3-del-cibo-italiano. Data di consultazione: 3. 6. 2023.)

(2 punti)



Pagina vuota



Pagina vuota



M 2 5 1 5 0 1 3 2 1 1 7

Allegato a colori (alla Prova d'esame 2)



Figura 5

(Fonte: www.carthago.com/slo/o-skupini-carthago/ormoz. Data di consultazione: 5. 2. 2024.)



Figura 6

(Fonte: archivio CNM MG GEO)

Non scrivete nel campo grigio. Non scrivete nel campo grigio. Non scrivete nel campo grigio. Non scrivete nel campo grigio. Non scrivete nel campo grigio.



Figura 7: Paesaggio agricolo nella Slovenia subpannonica

(Fonte: Senegačnik, J., 2008: Slovenia 1: geografia za 3. letnik gimnazij, p. 90. Modrijan. Ljubljana)



Figura 8

(Fonte: www.google.com/search?q=vrt%C4%8Da&tbm=isch&chips=q:...Da,online_chips:...:SGovMK90bMQ%3D&hl=sl&sa=X&ved=2ahUKEwi7yKXqoJOCAXBmScCHajDjsQ4IYoAXoECAEQNg&biw=1730&bih=828#imgrc=xGx0rzAvakjrpM.
Data di consultazione: 3. 10. 2023.)

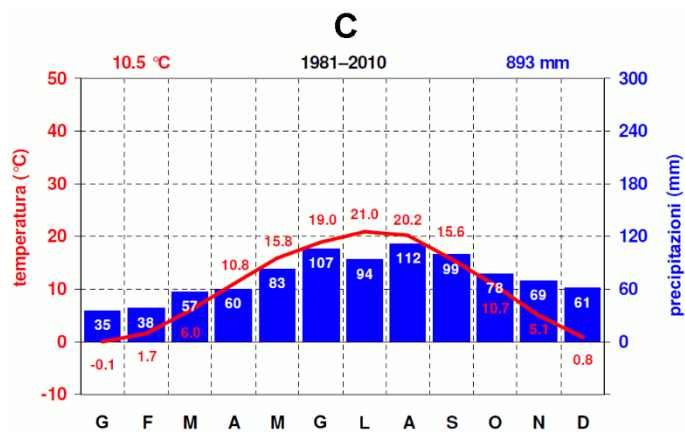
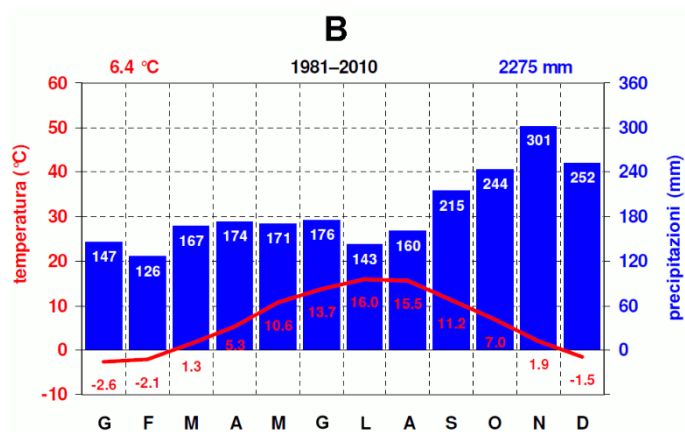
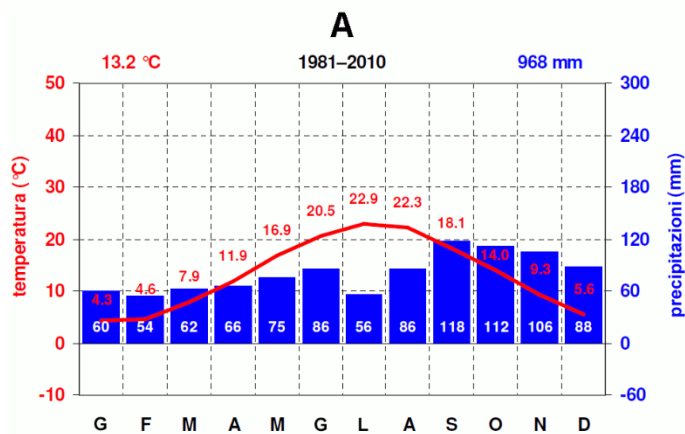


Figura 9

(Adattato da: <https://meteo.arso.gov.si/met/sl/climate/diagrams/climographs/>. Data di consultazione: 3. 10. 2023.)



Figura 10

(Fonte: <https://ruminantiamese.ruminantia.it/wp-content/uploads/2020/04/Pecore-Sardegna-Nuraghi-iStock-1010698186.jpg>.
Data di consultazione: 3. 6. 2023.)



Figura 11

(Fonte: https://forbes.it/wp-content/uploads/2018/02/IMG_5317-1200x800.jpg. Data di consultazione: 3. 6. 2023.)