




Š i f r a u č e n c a :

Državni izpitni center



N 1 6 1 4 0 9 3 1



9.
razred

NACIONALNO PREVERJANJE ZNANJA
v 9. razredu v prilagojenem izobraževalnem programu z nižjim izobrazbenim standardom

Sreda, 4. maj 2016 / 60 minut

Dovoljeno gradivo in pripomočki: Učenec prinese modro/črno nalivno pero ali moder/črn kemični svinčnik, svinčnik, radirko, šilček, ravnilo, geotrikotnik in šestilo.

NAVODILA UČENCU

Natančno preberi ta navodila.

Prilepi kodo oziroma vpiši svojo šifro v okvirček desno zgoraj na tej strani.

Pri vsaki nalogi svoj odgovor napiši v predvideni prostor znotraj okvirja.

Piši čitljivo. Če se zmotiš, napačni odgovor prečrtaj in pravilnega napiši na novo.

Svinčnik uporablaj samo za risanje oziroma načrtovanje.

Nečitljivi zapisi in nejasni popravki se ovrednotijo z nič točkami.

Čeprav znaš marsikaj rešiti na pamet, zapisuj celotne račune. Pri reševanju mora biti jasno predstavljena pot do rezultata z vmesnimi računi in sklepi.

Če se ti zdi naloga pretežka, se ne zadržuj predolgo pri njej, temveč začni reševati naslednjo.

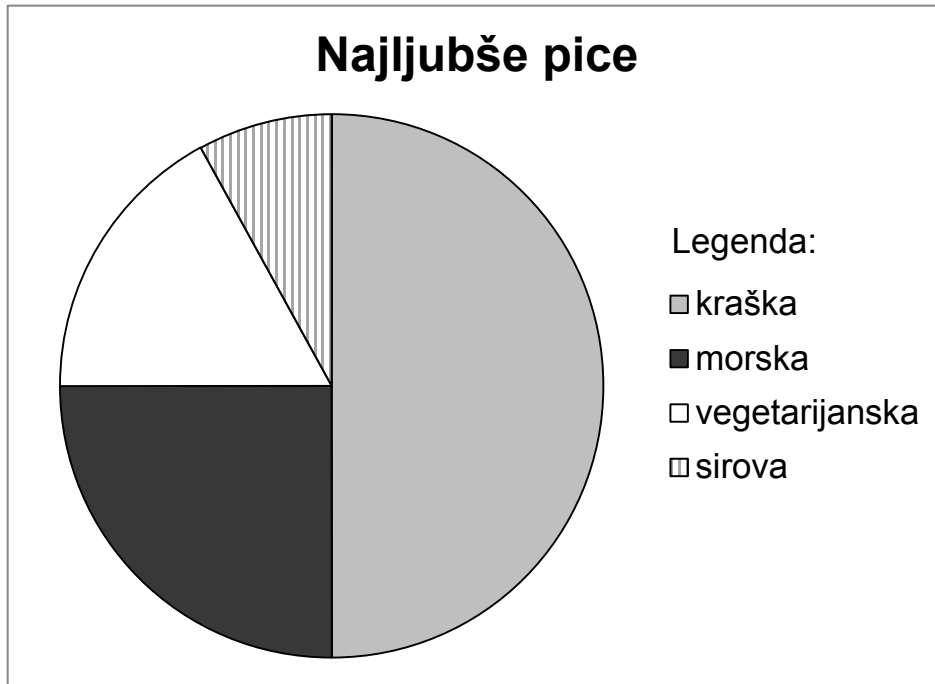
K nerešeni nalogi se vrni pozneje. Na koncu svoje odgovore ponovno preveri.

Zaupaj vase in v svoje zmožnosti. Želimo ti veliko uspeha.

Preizkus ima 16 strani, od tega 3 prazne.



4. Grafikon prikazuje izbor najljubših pic 36 učencev.



Z grafikona razberi tri pravilne trditve in obkroži črko pred njimi.

- A Največ učencev ima najraje morsko pico.
- B Vegetarijansko pico ima najraje $\frac{1}{4}$ učencev.
- C Sirovo pico je najmanj učencev.
- D Kraško pico ima najraje 50 % učencev.
- E Morsko in vegetarijansko pico skupaj ima najraje polovica učencev.
- F Vegetarijansko pico je manj učencev kot morsko pico.

(3 točke)



N 1 6 1 4 0 9 3 1 0 7

6. Izračunaj.

$$\begin{array}{r} \text{a)} \quad \quad \quad 4 \quad 5 \quad 2 \quad 4 \\ + \quad \quad \quad 8 \quad 7 \quad 6 \\ \hline \end{array}$$

$$\begin{array}{r} \text{b)} \quad \quad \quad 2 \quad 4 \quad 7 \quad 5 \quad 6 \\ - \quad \quad \quad 9 \quad 8 \quad 2 \quad 9 \\ \hline \end{array}$$

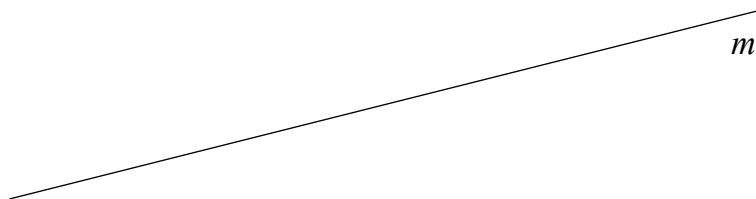
$$\begin{array}{r} \text{c)} \quad \quad 3 \quad 5 \quad 9 \quad . \quad 5 \quad 7 \quad 4 \\ \hline \end{array}$$

$$\text{d)} \quad 2 \quad 4 \quad 7 \quad 1 \quad : \quad 3 \quad =$$

(4 točke)




9. Premici m nariši vzporednici n in p , ki sta od premice m oddaljeni 3 cm in se ne prekrivata.



(2 točki)

10. Daljša stranica lika meri 4 cm, krajša pa 2 cm. Poimenuj stranice in oglišča narisanege lika ter izračunaj njegovo ploščino.



Reševanje:

(3 točke)



13. Za kurjenje peči potrebujemo dnevno 39 kg sekancev. Kurimo 30 dni v mesecu. Kurilna sezona traja 6 mesecev. Koliko ton in kilogramov sekancev moramo pripraviti za kurjavo za kurilno sezono? Odgovor napiši na črto.

Reševanje:

Odgovor: _____

(3 točke)

14. Marko je imel 3 m vrvi. Za lok je porabil 83 cm. Koliko vrvi mu je ostalo? Odgovor napiši na črto.

Reševanje:

Odgovor: _____

(3 točke)



N 1 6 1 4 0 9 3 1 1 3

- b) Koliko več padavin je novembra kot februarja?
Odgovor napiši na črto.

- c) Koliko padavin je meseca, ki je najtoplejši?
Odgovor napiši na črto.

- d) Kakšna je temperatura v mesecu, ko je najmanj padavin?
Odgovor napiši na črto.

(4 točke)

OBRNI LIST.

