



Codice del candidato:

Državni izpitni center



M 0 5 1 5 0 1 1 2 1

PRIMA SESSIONE D'ESAME

GEOGRAFIA

≡ Prova d'esame 2 ≡

Giovedì 9 giugno 2005 / 80 minuti

Al candidato è consentito l'uso della penna stilografica o della penna a sfera.

Il candidato ha a disposizione due schede di valutazione.

La prova d'esame comprende un allegato a colori.

MATURITÀ GENERALE

INDICAZIONI PER I CANDIDATI

Leggete attentamente le seguenti indicazioni. Non tralasciate nulla.

Non voltate pagina e non iniziate a risolvere i quesiti prima del via dell'insegnante preposto.

Incollate o scrivete il vostro numero di codice nello spazio apposito su questa pagina in alto a destra e sulle schede di valutazione.

Rispondete con frasi complete e non con singole parole. Scrivete le risposte negli spazi appositi, usando la penna stilografica o a sfera. Scrivete in modo leggibile. **Le risposte illeggibili e le correzioni poco chiare verranno valutate con zero (0) punti.**

A lato degli esercizi, a destra, è segnato il punteggio possibile.

Riflettete e pianificate bene le vostre risposte. Abbiate fiducia in voi stessi e nelle vostre capacità.

Buon lavoro.

Questa prova d'esame ha 12 pagine, di cui 2 vuote.

PAGINA VUOTA

Voltate pagina.

D1 – LA SLOVENIA

1. Accanto ai sedimenti non coerenti, **segnate** negli spazi appositi, il **numero** delle rocce corrispondenti riportate nella colonna di destra:

ghiaia: _____ 1. arenarie
 ciottoli: _____ 2. rocce clastiche (breccia)
 sabbia: _____ 3. conglomerati

(1 punto)

2. Accanto alla descrizione, nella tabella, **inserite** il nome della corrispondente regione sottoelencata.

Bela Krajina Caravanche Monti del Posavje Alpi Giulie

Descrizione della regione	Regione
Rilievo montano giovane e fortemente corrugato con una struttura litologica completamente differente rispetto alle altre regioni alpine.	
Le prevalenti rocce calcaree sono state trasformate dall'azione erosiva fluviale, glaciale e dall'alterazione chimica.	
L'azione tettonica ed il substrato calcareo hanno formato, nella parte centrale della regione, un bassopiano carsico.	
Tra tutte le regioni, dispone della maggiore varietà di rocce, con potenti strati terziari, ricchi di un certo tipo di fonte energetica.	

(2 punti)

3. Leggete le affermazioni che si riferiscono a tre differenti regioni slovene segnate, nell' **allegato 1 (Allegato alla Prova d'esame 2)**, con le lettere **A, B e C**.

	Regione A	Regione B	Regione C
Unità litologica	sedimenti quaternari	rocce carbonatiche tenere	rocce carbonatiche compatte
Forma del rilievo	conca	rilievo montano	rilievo dell'alta montagna
Età delle rocce	triassico	terziario	permiano

Ogni regione presenta un'affermazione **errata**. Individua l'affermazione errata e **trascrivila**.

Regione A: _____

Regione B: _____

Regione C: _____

(3 punti)

4. Con l'aiuto dell' **allegato 1 (Allegato alla Prova d'esame 2)** completate le affermazioni.

A nord della località D, il fiume _____ ha depositato (nome dei sedimenti) _____, mentre a sud il fiume _____ ha depositato (nome dei sedimenti) _____.

(2 punti)

5. Indicate il nome del periodo geologico del **Cenozoico** in cui vi fu la **più intensa azione di deposito** di materiale sedimentario, nella regione che si estende a nord della località **D**, nell' **allegato 1 (Allegato alla Prova d'esame 2)** e spiegate perchè.

Periodo geologico: _____

Spiegazione: _____

(2 punti)

D2 – LA SLOVENIA

6. **Complete** il testo.

A causa dell'abbandono delle colture agricole cambia anche l'utilizzo del suolo. Il processo di trasformazione delle superfici arative in prative viene detto _____ . Se invece l'arativo è riconquistato dal bosco, allora parliamo di _____ , che spesso confondiamo con il termine di _____ , che significa invece rinnovamento pianificato delle superfici boschive.

(2 punti)

7. I **grafici n. 1, 2, 3 e 4** rappresentano l'**utilizzo del suolo** in alcune regioni slovene prescelte. In riferimento alle loro caratteristiche geografico-fisiche, **scrivete** il nome, delle sottoelencate regioni, negli appositi spazi sotto al corrispondente grafico.

BARJE di LUBIANA

POLJE della DRAVA

MONTI di KOČEVJE

COLLIO GORIZIANO

Grafico n. 1

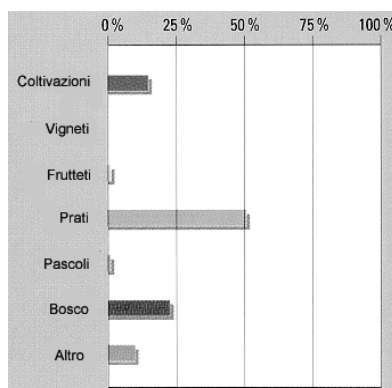


Grafico n. 2

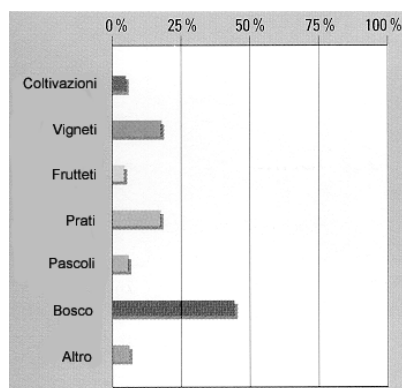


Grafico n. 3

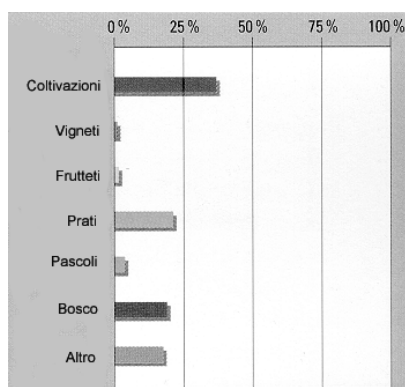
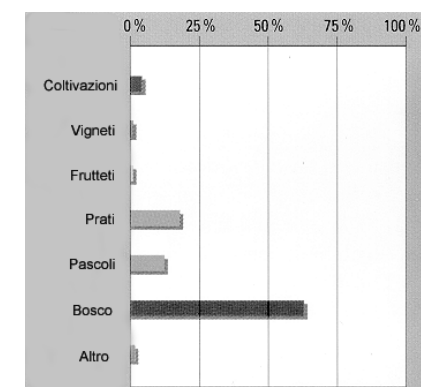


Grafico n. 4



(Fonte: Slovenia: pokrajine in ljudje, pp. 219, 389, 445, 603. Mladinska knjiga. Ljubljana, 1999.)

(2 punti)

8. Spiegate perchè nella regione contrassegnata dal **grafico n. 2**, si riscontra una **maggiore** percentuale di **vigneti**.

(1 punto)

9. In riferimento alla regione contrassegnata dal **grafico n. 4**, descrivete due motivi di ordine **fisico-geografico** che hanno influito decisamente sulla maggiore percentuale (sopra la media) della superficie **boschiva**.

1 _____

2 _____

(2 punti)

10. Le condizioni pedologiche del Barje di Lubiana rendono impossibile la pratica dell'agricoltura intensiva. Si è tentato di risolvere questo problema con dei provvedimenti tecnici. Di quale **provvedimento** tecnico si tratta?

(1 punto)

11. A causa dell' espansione dei centri urbani, in molte zone, l'agricoltura viene a perdere i suoli più fertili, innescando tutta una serie di problemi. Ciononostante, i centri urbani possono influire anche positivamente sulle attività agricole. Indicate e spiegate due **vantaggi** per l'agricoltura, derivati dalla vicinanza della città.

1 _____

2 _____

(2 punti)

E1 – L'ITALIA

12. Cerchiate la lettera che precede la risposta esatta.

Il monte più alto degli Appennini è il:

- A Gran San Bernardo
- B Gran Paradiso
- C Gran Sasso

Il fiume più lungo d'Italia dopo il Po, è:

- D l'Adige
- E il Tevere
- F l'Arno

(2 punti)

13. Inserite il termine esatto scegliendolo tra quelli proposti.

Il lago più vasto d'Italia è il lago _____
(Maggiore, di Como, di Garda)

Il mare che bagna le coste laziali è _____
(l'Adriatico, lo Ionio, il Tirreno)

L'Aspromonte fa parte della catena appenninica _____
(Meridionale, Centrale, Settentrionale)

Il Campidano è la pianura più estesa della _____
(Calabria, Sicilia, Sardegna)
(2 punti)

14. Inserite negli appositi spazi a sinistra dei termini il corrispondente numero della risposta esatta che si trova a destra.

_____ALPI OCCIDENTALI

1. Alpi Carniche e Giulie

_____ALPI CENTRALI

2. Alpi Lepontine, Retiche e Atesine

_____ALPI ORIENTALI

3. Alpi Marittime, Cozie, Graie e Pennine

(2 punti)

15. Completate la frase:

A

Anche gli Appennini, come le Alpi, sono di origine recente, essendosi formati nell'era _____; tuttavia dalle Alpi si differiscono molto per la loro costituzione; sono infatti in prevalenza formati da rocce _____.

B

Indicate i materiali che si depositarono nelle due zone sottoelencate della pianura padana durante l'era quaternaria.

ALTA PIANURA

BASSA PIANURA

(4 punti)

E2 – L'ITALIA

16. Cerchiate la lettera che precede la risposta esatta.

Il porto commerciale più importante d'Italia è:

- A Trieste
- B Genova
- C Taranto

La città più popolata d'Italia dopo Roma è:

- A Milano
- B Torino
- C Napoli

(2 punti)

17. Inserite il termine esatto scegliendolo tra quelli proposti.

Mar Adriatico, Mar Tirreno, Mar Ligure, Mar Ionio

- A La città di Taranto è bagnata dal mare _____.
- B La città di Savona è bagnata dal mare _____.
- C La città di Ancona è bagnata dal mare _____.
- D La città di Palermo è bagnata dal mare _____.

(2 punti)

18. Inserite negli appositi spazi a sinistra dei termini il corrispondente numero della risposta esatta che si trova a destra.

- | | |
|---------------|-----------|
| _____ Pavia | 1. Arno |
| _____ Firenze | 2. Ticino |
| _____ Trento | 3. Tevere |
| _____ Roma | 4. Adige |

(2 punti)

19. A Cerchiate la risposta che ritenete esatta.

In Italia le coste sono densamente abitate perchè:

- A attraggono traffici, industrie e turisti.
- B il clima è salubre dappertutto.
- C il territorio è prevalentemente pianeggiante.

I prodotti coltivati nelle Regioni italiane non sono ovunque gli stessi perchè:

- D clima, presenza d'acqua e suolo sono differenti.
- E gli agricoltori possono effettuare liberamente delle scelte.
- F dipendono dalle richieste del territorio circostante.

B Rispondete alle seguenti domande.

A Spiegate perchè milioni di meridionali si sono trasferiti dal Sud al Nord dell'Italia.

B Spiegate perchè gran parte delle città padane si trovano nell'alta pianura.

(4 punti)

PAGINA VUOTA