



Codice del candidato:

Državni izpitni center



SESSIONE PRIMAVERILE

GEOGRAFIA

≡ Prova d'esame 2 ≡

Geografia generale – Geografia della Slovenia e dell'Italia

Venerdì, 1 giugno 2018 / 90 minuti

Materiali e sussidi consentiti:

Al candidato è consentito l'uso della penna stilografica o della penna a sfera.

La prova d'esame comprende un allegato a colori.

MATURITÀ GENERALE

INDICAZIONI PER I CANDIDATI

Leggete con attenzione le seguenti indicazioni.

Non aprite la prova d'esame e non iniziate a svolgerla prima del via dell'insegnante preposto.

Incollate o scrivete il vostro numero di codice negli spazi appositi su questa pagina in alto a destra.

La prova d'esame si compone di 25 quesiti, risolvendo correttamente i quali potete conseguire fino a un massimo di 50 punti. Il punteggio conseguibile in ciascun quesito viene di volta in volta espressamente indicato.

Scrivete le vostre risposte all'interno della prova, **nei riquadri appositamente previsti**, utilizzando la penna stilografica o la penna a sfera. Formulate delle frasi complete e leggibili: in caso di errore, tracciate un segno sulla risposta scorretta e scrivete accanto a essa quella corretta. Alle risposte e alle correzioni scritte in modo illeggibile verranno assegnati 0 punti.

Abbiate fiducia in voi stessi e nelle vostre capacità. Vi auguriamo buon lavoro.

La prova si compone di 16 pagine (1-16), di cui 3 vuote. L'allegato a colori si compone di 2 pagine (17-18).



Geografia generale

1. Indicate i tipi di abitato rurale (provinciale) rappresentati rispettivamente nelle figure 5 e 6 dell'allegato a colori.

Figura 5: _____

Figura 6: _____

(2 punti)

2. Nella figura 7 dell'allegato a colori le lettere A e B contrassegnano due zone a diversa densità abitativa. Descrivete la causa geografico-fisica della prevalente densità di popolazione nella zona contrassegnata dalla lettera A e la causa geografico-antropica della prevalente densità di popolazione nella zona contrassegnata dalla lettera B.

Causa geografico-fisica (A): _____

Causa geografico-antropica (B): _____

(2 punti)

3. Descrivete la conseguenza demografica della suburbanizzazione dei centri abitati provinciali in vicinanza delle città.

(1 punto)

4. Nel testo sottostante sono descritte le caratteristiche di una zona, presente nelle città dei paesi economicamente meno avanzati. Indica il nome della zona descritta.

»Dopo circa un chilometro di lussuose vetrine ed edifici mi ritrovo in una zona dove i passanti si diradano, mentre i bambini, che da tempo non si lavano o pettinano, giocano nei canali e nella sporcizia. I passanti mi fissano facendomi capire che quello non è un posto per me. Ho paura a estrarre dallo zaino la macchina fotografica. Chiamo un taxi. In seguito mi spiegano che questi mezzi sono pericolosi e che ognuno dei nostri conoscenti ha vissuto una brutta esperienza in taxi. Alcuni sono stati minacciati con le armi, altri sono stati picchiati.«

(Fonte: Petek, M., et al., 2007: Zbirka nalog za geografijo za maturo. Mladinska knjiga. Ljubljana)

(1 punto)



5. Spiegate uno dei cambiamenti nella qualità della vita, che il miglioramento di una delle attività destinate al mantenimento della città e alla produzione di servizi consumati localmente, potrebbe apportare agli abitanti della zona della città descritta nel testo della domanda 4.

(2 punti)

6. Spiegate la causa della sempre minore domanda di appartamenti nei centri urbani dei Paesi economicamente avanzati.

(2 punti)



Slovenia 1

7. Per ciascuno dei laghi elencati, indicatene il tipo in base all'origine.

Laghi del Triglav: _____

Lago di Ptuj: _____

(2 punti)

8. Nella figura 1 sono rappresentate le zone in Slovenia con acqua sotterranea raccolta nella falda acquifera. Le falde acquifere che raccolgono le maggiori quantità d'acqua si trovano nelle pianure. Indicate altre due forme di rilievo nelle quali è presente la falda acquifera.

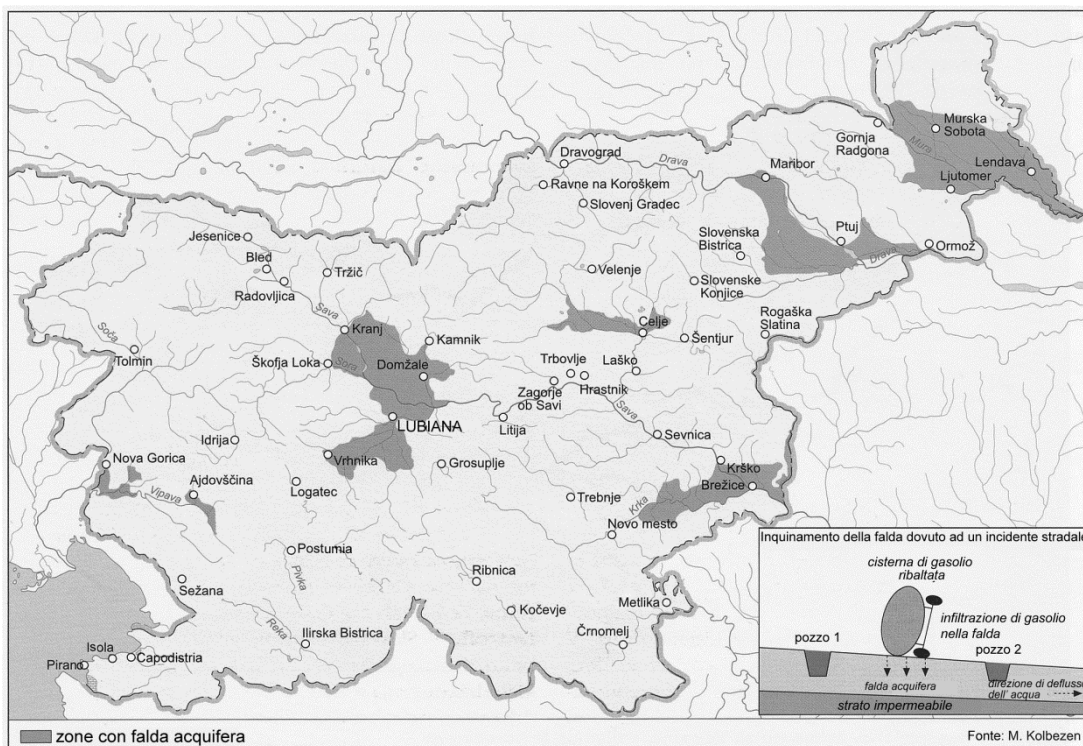


Figura 1

(Fonte: Klemenčič, M., et al., 2002: Geografija Slovenije 1. Učbenik za 3. letnik gimnazij, p. 44. DZS. Ljubljana)

1 _____

2 _____

(2 punti)

9. Cerchia le lettere che precedono le due affermazioni corrette.

- A L'inquinamento della maggior parte dei fiumi sloveni è in aumento.
- B Le acque del fiume Ljubljanica defluiscono verso il Mar Adriatico.
- C La centrale nucleare di Krško contribuisce in modo decisivo all'inquinamento della Sava.
- D L'inquinamento dei fiumi è minore nelle aree di sorgente.
- E Grazie alla presenza di zone umide, la variabilità delle portate di alcuni fiumi sloveni è minore.

(2 punti)



10. In Slovenia, il coefficiente di deflusso, ossia il rapporto fra le precipitazioni e il deflusso dell'acqua in superficie, registra valori diversi. Indicate la grande unità regionale slovena (macroregione) in cui il coefficiente di deflusso raggiunge i massimi valori. Descrivete la causa geografico-fisica dell'alto coefficiente di deflusso nella regione indicata.

Grande unità regionale slovena: _____

Descrizione: _____

(2 punti)

11. Basandovi sulla figura 2 spiegate la differenza tra i regimi fluviali della Sava presso Radovljica e della Sava presso Krško.

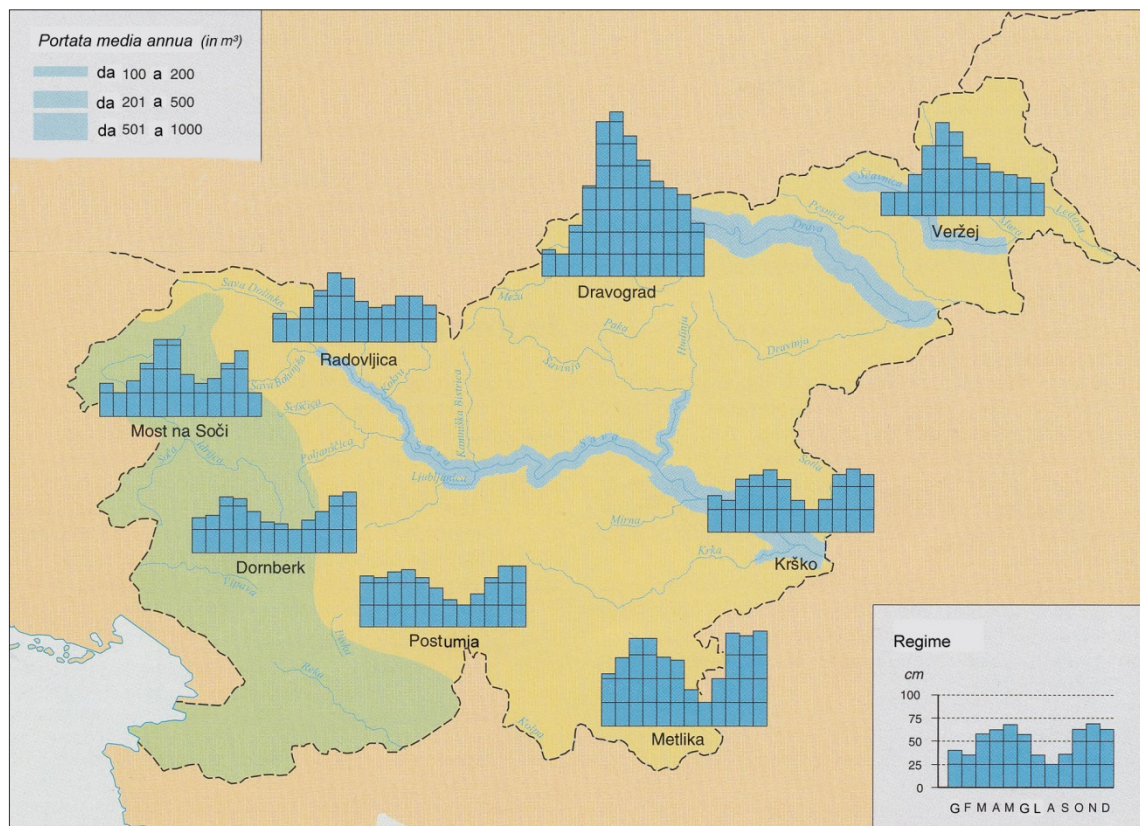


Figura 2

(Fonte: Brinovec, S., et al., 2006: Geografija, zbirka maturitetnih nalog 1999–2004, priloge in rešitve, p. 57. Državni izpitni center. Ljubljana)

(2 punti)



Slovenia 2

12. Indicate i due centri turistici contrassegnati dalle lettere A e B nella figura 3.

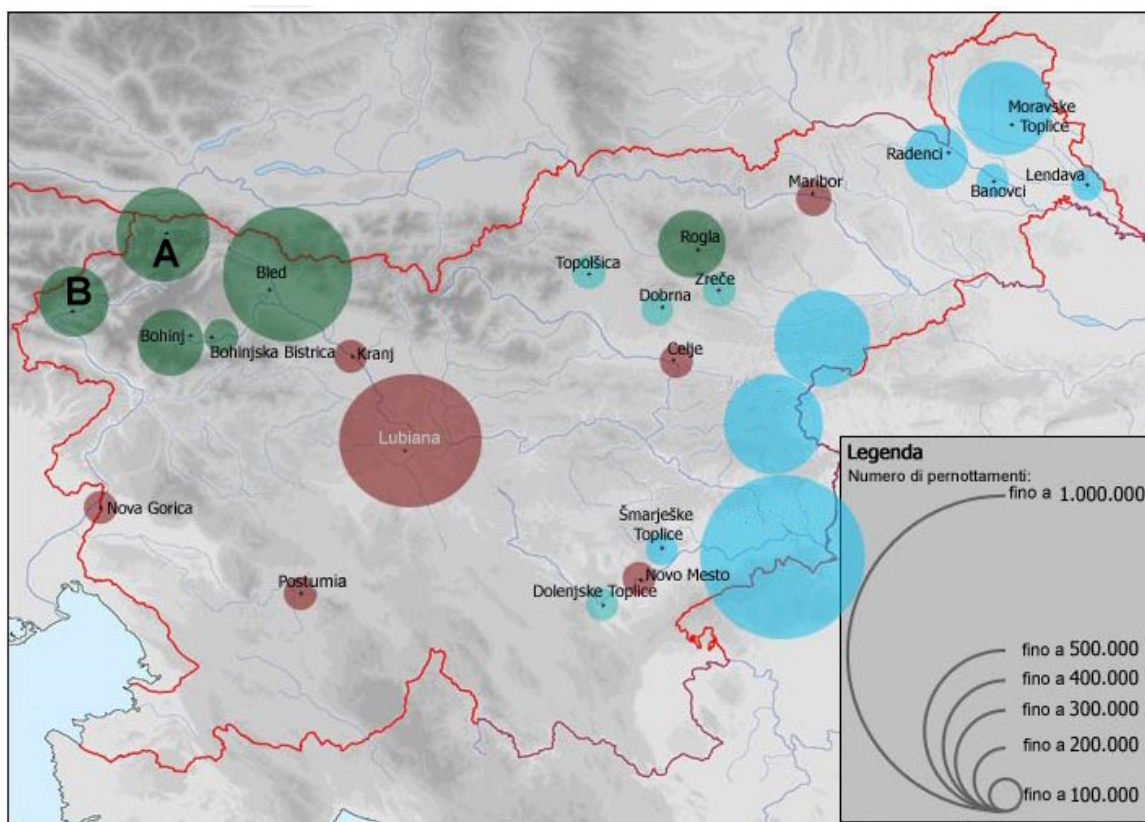


Figura 3

(Adattato da: Godec, G., et al., 2006: Slovenija – družbenogeografske značilnosti. Elektronski vir. Svarog. Miklavž na Dravskem polju)

A: _____

B: _____

(2 punti)

13. Basandovi sulla figura 3 nella domanda 12, in cui è rappresentato il numero complessivo di pernottamenti in alcuni centri turistici sloveni, indicate la grande unità regionale slovena (macroregione) nella quale si trova il centro turistico che registra un numero complessivo di pernottamenti tra i 400.000 e i 500.000. Descrivete la causa principale del grande movimento turistico in questo centro.

Grande unità regionale slovena: _____

Descrizione: _____

(2 punti)



14. Il trasporto aereo contribuisce all'aumento del numero dei turisti e dei profitti derivanti dal turismo. Descrivete altri due effetti positivi del trasporto aereo sul turismo in Slovenia.

1 _____

2 _____

(2 punti)

15. Nella figura 4 è rappresentato l'andamento del trasporto merci su gomma e rotaia in Slovenia tra il 1990 e il 2011. Trascrivete la lettera della curva che rappresenta l'andamento del trasporto merci su gomma e spiegate la causa di tale andamento.

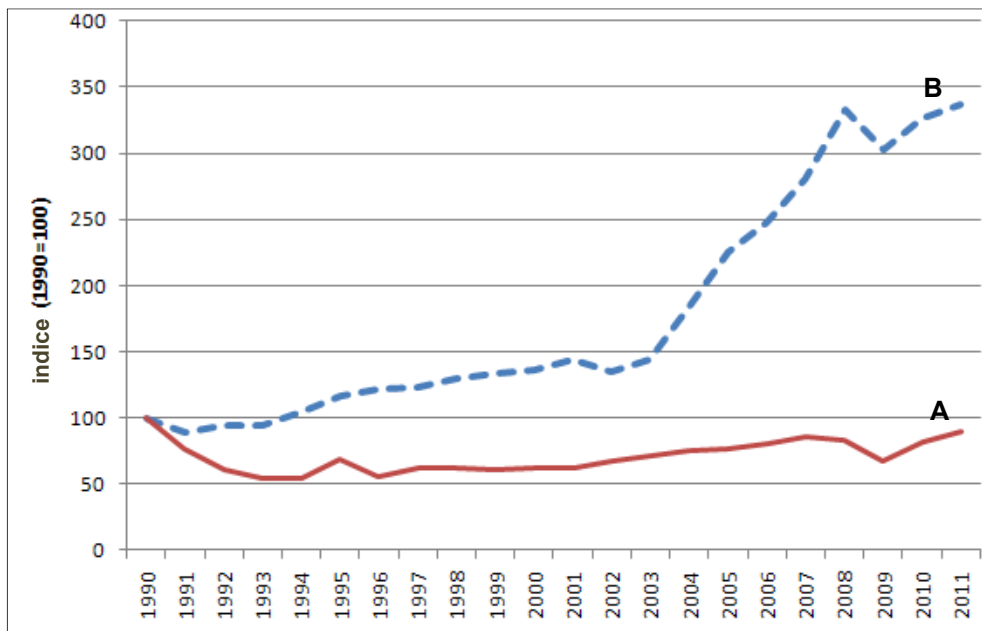


Figura 4

(Adattato da: http://kazalci.arso.gov.si/?data=indicator&ind_id=416. Consultato il 27. 3. 2016.)

Lettera: _____

Spiegazione: _____

(2 punti)



16. Immaginate di elaborare le indicazioni sul futuro sviluppo turistico di Bohinj, le quali devono basarsi sulla visione »I feel Slovenia« ovvero »Sento la Slovenia«, con cui si pubblica il turismo sloveno nel testo sottostante. Con la descrizione della causa e delle conseguenze, presentate una proposta per lo sviluppo turistico di Bohinj in armonia con la visione riportata di seguito.

In Slovenia il verde è più di un colore; è il »verde sloveno« che esprime l'equilibrio tra la tranquillità della natura e l'impegno degli sloveni. Racconta il legame tra la natura incontaminata e la determinazione degli sloveni a mantenerla tale. Designa l'equilibrio dello stile di vita che integra quella piacevole agitazione con la quale perseguiamo ed esaudiamo i nostri desideri e la comune visione del proseguire il nostro cammino, di pari passo con la natura. Il verde sloveno descrive, altresì, il nostro essere proiettati verso l'elementare, verso ciò che sentiamo sotto le nostre mani.

Il verde sloveno, infine, ci parla della congruenza dei sensi con i quali percepiamo la Slovenia. Il ricordo della Slovenia unisce l'odore del bosco, il mormorio del ruscello, il sorprendente sapore dell'acqua e la tenerezza del legno.

Sentiamo la Slovenia.



(Fonte: http://www.slovenia.info/pictures/TB_board/attachments_1/2012/Strategija_turizem_sprejeto_7.6.2012_14561.pdf. Consultato il 27. 3. 2016.)

(2 punti)

**Geografia dell'Italia 1**

17. Individuate le due regioni geografiche che non corrispondono alle caratteristiche di uno dei climi italiani descritti nel testo. Indicate anche il nome del clima descritto.

Questo clima presenta inverni lunghi e rigidi, estati brevi, fresche. Le precipitazioni sono abbondanti tutto l'anno e nevose d'inverno nella Pianura padana, sulle Alpi e sull'Appennino meridionale.

Regione geografica: _____

Regione geografica: _____

Clima: _____

(3 punti)

18. Cerchiate la lettera che precede il completamento esatto.

Il mar Ionio è il mare

- A più esteso e meno profondo
- B che bagna le coste occidentali della penisola
- C più profondo (massima profondità 4000 m)

Le Prealpi italiane si trovano

- A a sud delle Alpi centrali e orientali
- B a nord della catena alpina
- C a est delle Alpi occidentali

(2 punti)

19. Cerchiate SÌ se la risposta è esatta, NO se errata.

Il lago di Como e il lago d'Iseo sono laghi prealpini di origine glaciale. SÌ NO

Il lago di Bolsena è un lago alluvionale. SÌ NO

Il lago Trasimeno è un lago di origine vulcanica. SÌ NO

(2 punti)



20. Scrivete, sulla riga accanto a tre dei climi italiani, la lettera che precede la corrispondente descrizione, scegliendola tra quelle proposte.

- A Inverni miti ed estati lunghe e calde; precipitazioni nel periodo invernale.
- B Inverni freddi ed estati calde ma ventilate; precipitazioni abbastanza frequenti.
- C Inverni lunghi e rigidi, estati brevi e fresche; precipitazioni abbondanti.
- D Inverni lunghi, freddi e nebbiosi; estati calde e afose.
- E Inverni rigidi ed estati abbastanza calde; precipitazioni abbondanti.

_____ Clima continentale

_____ Clima mediterraneo

_____ Clima appenninico

(3 punti)

**Geografia dell'Italia 2**

21. Cerchiate SÌ se la risposta è esatta, NO se errata.

La regione padana dispone di un'agricoltura a basso livello di meccanizzazione.	Sì	NO
Il settore primario occupa in Italia il 9,1% dei lavoratori.	Sì	NO
La produttività delle aziende agricole padane risulta elevata.	Sì	NO
La regione agricola italiana maggiormente sviluppata è la pianura campana.	Sì	NO

(2 punti)

22. Indicate due dei fattori che hanno favorito lo sviluppo industriale nell'alta pianura padana.

1 _____

2 _____

(2 punti)

23. Indicate due dei fattori che hanno favorito lo sviluppo agricolo nella bassa pianura padana.

1 _____

2 _____

(2 punti)

24. Spiegate con due possibili motivazioni perché, nel secondo dopoguerra, milioni di meridionali sono emigrati dal Sud al Nord dell'Italia.

1 _____

2 _____

(2 punti)

VOLTATE IL FOGLIO.



25. Cerchiate la lettera che precede il completamento esatto.

Nell'ultimo ventennio si è avuto un significativo sviluppo industriale

- A nel nord-est e in alcune regioni dell'Italia centrale
- B nel nord-ovest e nell'Italia insulare
- C nell'area alpina e nelle pianure meridionali

Nel settore terziario è oggi occupato

- A il 27,5% della popolazione italiana attiva
- B il 7% della popolazione attiva
- C il 66,5% della popolazione attiva

(2 punti)



Pagina vuota



M 1 8 1 5 0 1 3 2 1 1 7

Allegato a colori (alla Prova d'esame 2)



Figura 5

(Fonte: Godec, G., et al., 2006: Slovenia – družbenogeografske značilnosti. Elektronski vir. Svarog. Miklavž na Dravskem polju)



Figura 6

(Fonte: Godec, G., et al., 2006: Slovenia – družbenogeografske značilnosti. Elektronski vir. Svarog. Miklavž na Dravskem polju)

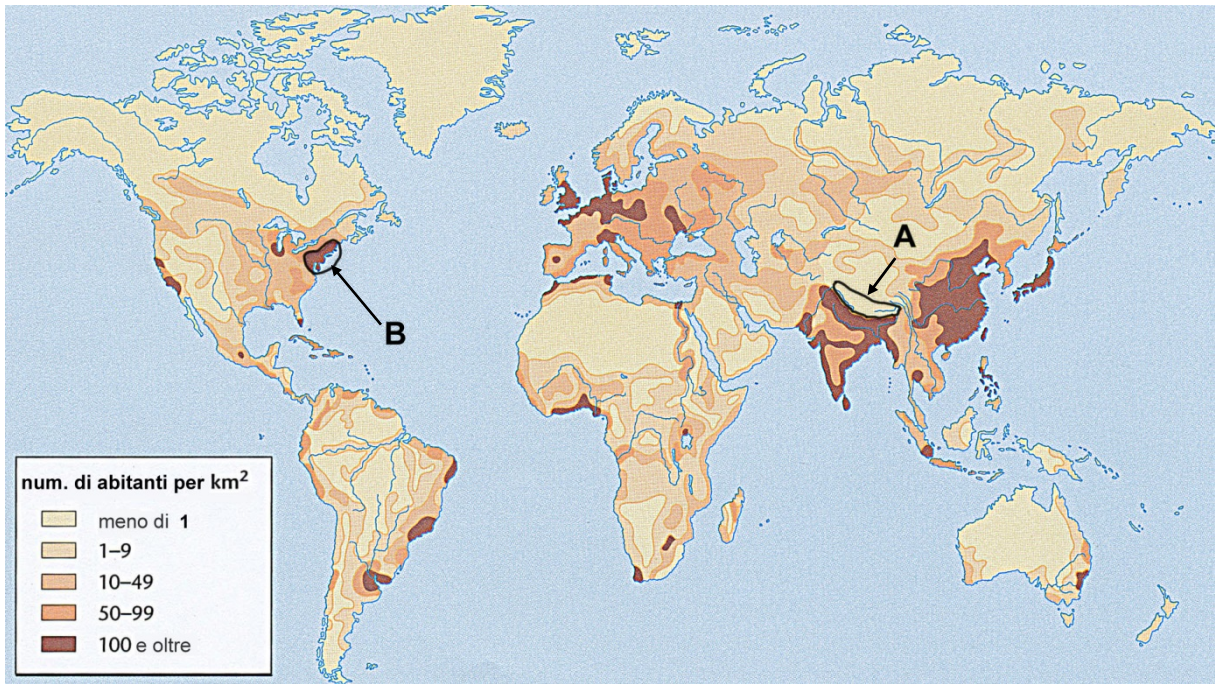


Figura 7

(Adattato da: Senegačnik, J., Drobnjak, B., 2013: Obča geografija, za 1. letnik gimnazij, p. 138. Modrijan, Ljubljana)