



Šifra kandidata:

Državni izpitni center



M 2 0 1 4 3 1 1 1

SPOMLADANSKI IZPITNI ROK

K E M I J A

≡ Izpitna pola 1 ≡

Sreda, 17. junij 2020 / 90 minut

Dovoljeno gradivo in pripomočki:

Kandidat prinese nalivno pero ali kemični svinčnik, svinčnik HB ali B, radirko, šilček in računalno.

Kandidat dobi list za odgovore. Priloga s periodnim sistemom je na perforiranem listu, ki ga kandidat pazljivo iztrga.

SPLOŠNA MATURA

NAVODILA KANDIDATU

Pazljivo preberite ta navodila.

Ne odpirajte izpitne pole in ne začenjajte reševati nalog, dokler vam nadzorni učitelj tega ne dovoli.

Prilepite kodo oziroma vpišite svojo šifro (v okvirček desno zgoraj na tej strani in na list za odgovore).

Izpitna pola vsebuje 35 nalog izbirnega tipa. Vsak pravičen odgovor je vreden 1 točko. Pri reševanju uporabite relativne atomske mase elementov iz periodnega sistema v prilogi.

Rešitve pišite z nalivnim peresom ali s kemičnim svinčnikom **v izpitno polo** tako, da obkrožite črko pred pravilnim odgovorom. Sproti izpolnite še **list za odgovore**. Vsaka naloga ima samo **en** pravičen odgovor. Naloge, pri katerih bo izbranih več odgovorov, in nejasni popravki bodo ocenjeni z 0 točkami.

Zaupajte vase in v svoje zmožnosti. Želimo vam veliko uspeha.

Ta pola ima 16 strani, od tega 5 praznih.



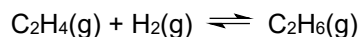
- V sivo polje ne pišite. V sivo polje ne pišite. V sivo polje ne pišite. V sivo polje ne pišite. V sivo polje ne pišite.
- Sestaviti želimo aparaturo za filtriranje. Kateri laboratorijski pribor potrebujemo?
 - Stojalo, filtrirni obroč, lij ločnik.
 - Stojalo, prižemo, bireto, erlenmajerico.
 - Stojalo, filtrirni obroč, lij, čašo.
 - Trinožno stojalo, keramično mrežico, izparilnico.
 - Katera trditev opisuje izotope?
 - Izotopi so atomi istega elementa, ki se razlikujejo v relativni atomski masi.
 - Izotopi so elementi iste spojine, ki se razlikujejo v relativni molekularni masi.
 - Izotopi so atomi različnih elementov, ki imajo enako relativno atomsko maso.
 - Izotopi so atomi istega elementa, ki se razlikujejo v številu protonov.
 - Koliko orbital zasedajo elektroni v osnovnem stanju atoma žvepla?
 - 3
 - 5
 - 8
 - 9
 - Navedene so prve štiri ionizacijske energije neznanega elementa X:
 $E_{i1} = 496 \text{ kJ/mol}$, $E_{i2} = 4562 \text{ kJ/mol}$, $E_{i3} = 6910 \text{ kJ/mol}$, $E_{i4} = 9543 \text{ kJ/mol}$.
Kakšna je formula sulfida, ki ga tvori element X?
 - X_2S
 - XS
 - X_2S_3
 - XS_2
 - Kaj je značilno za ionsko vez?
 - Atomi kovin in atomi nekovin tvorijo vezne elektronske pare.
 - Ionska vez je usmerjena k anionu.
 - V ionskih spojinah je število kationov vedno enako številu anionov.
 - Spojine z ionsko vezjo imajo visoka tališča.




6. V kateri molekuli so koti med vezmi največji?
- A CH_3OH
 - B HCHO
 - C H_2O
 - D NH_3
7. Katera primerjava vrelišč spojin v paru je pravilna?
- A $T_v(\text{H}_2\text{S}) < T_v(\text{H}_2\text{O})$
 - B $T_v(\text{NH}_3) < T_v(\text{PH}_3)$
 - C $T_v(\text{HF}) < T_v(\text{HCl})$
 - D $T_v(\text{CH}_3\text{CH}_3) < T_v(\text{CH}_4)$
8. Katera snov dobro prevaja električni tok zaradi prosto gibljivih elektronov?
- A Diamant.
 - B Natrijev klorid.
 - C Magnezij.
 - D Jod.
9. Kateri plin med navedenimi zavzema največjo prostornino pri temperaturi $20\text{ }^\circ\text{C}$ in tlaku $100,0\text{ kPa}$, če so mase vseh plinastih snovi enake?
- A Dušikov dioksid.
 - B Klorov dioksid.
 - C Ogljikov dioksid.
 - D Žveplov dioksid.
10. Pri popolni oksidaciji 1 mol nekega ogljikovodika je nastalo 6 mol CO_2 in 6 mol H_2O . Kolikšna je bila množina vseh reaktantov?
- A 2 mol
 - B 6 mol
 - C 10 mol
 - D 12 mol



14. V reaktorsko posodo smo dali $0,330 \text{ mol L}^{-1}$ etena in $0,530 \text{ mol L}^{-1}$ vodika v prisotnosti katalizatorja. Pri neki temperaturi je v ravnotežju nastalo $0,098 \text{ mol L}^{-1}$ etana. Izračunajte konstanto ravnotežja za reakcijo hidrogeniranja etena.



- A 0,560
B 0,978
C 1,02
D 1,79
15. Dodatek katere snovi bo povzročil premik kemijskega ravnotežja v desno?



- A CaCl_2
B NaOH
C NaHCO_3
D HCl
16. Katerih ionov *ni* v $0,10 \text{ M}$ raztopini $\text{CH}_3\text{CH}_2\text{NH}_2$?

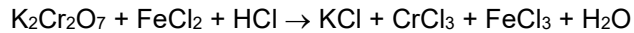
- A OH^{-}
B H_3O^{+}
C $\text{CH}_3\text{CH}_2\text{NH}_3^{+}$
D $\text{CH}_3\text{CH}_2\text{NH}^{-}$
17. Kolikšna je koncentracija oksonijevih ionov v ekvivalentni točki pri titraciji $1,0 \cdot 10^{-2} \text{ M}$ raztopine klorovodikove kisline s $5,0 \cdot 10^{-3} \text{ M}$ raztopino natrijevega hidroksida?

- A $2,0 \cdot 10^{-12} \text{ mol L}^{-1}$
B $1,0 \cdot 10^{-7} \text{ mol L}^{-1}$
C $0,5 \cdot 10^{-2} \text{ mol L}^{-1}$
D $1,0 \cdot 10^{-2} \text{ mol L}^{-1}$
18. Katero od navedenih raztopin moramo dodati raztopini svinčevega(II) acetata, da nastane oborina?

- A $\text{KNO}_3(\text{aq})$
B $\text{KCH}_3\text{COO}(\text{aq})$
C $\text{KI}(\text{aq})$
D $\text{NH}_4\text{CH}_3\text{COO}(\text{aq})$



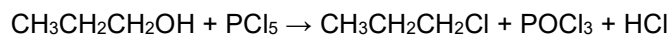
19. Uredite enačbo redoks reakcije in izberite pravilno množinsko razmerje med reducentom in oksidantom.



- A $n(\text{reducent}) : n(\text{oksidant}) = 1 : 6$
B $n(\text{reducent}) : n(\text{oksidant}) = 6 : 1$
C $n(\text{reducent}) : n(\text{oksidant}) = 1 : 3$
D $n(\text{reducent}) : n(\text{oksidant}) = 3 : 1$
20. V nekem slovenskem kemijskem podjetju izvajajo elektrolizo raztopine natrijevega klorida. Katera od navedenih snovi **ne** nastane pri tem postopku?
- A Na
B NaOH
C Cl₂
D H₂
21. Kateri je pravilni zapis formule koordinacijske spojine, ki ima ime heksaaminkobaltov(III) klorid?
- A [Co(NH₃)₆]Cl₃
B Co[(NH₃)₆Cl₃]
C (NH₃)₆[CoCl₃]
D [CoCl₃](NH₃)₆
22. Izberite pravilno trditev za kremen.
- A Kremen je ionski kristal in je v talini dober prevodnik električnega toka.
B Kremen je amorfna snov, saj je osnovna surovina za pridobivanje stekla.
C Iz kremena lahko dobimo element, ki ga uporabljamo kot polprevodnik.
D Pri raztapljanju kremena v vodi nastane silicijeva kislina.
23. V molekuli aciklične spojine s sedmimi ogljikovimi atomi je ena dvojna in ena trojna vez. Koliko vodikovih atomov je v molekuli te spojine?
- A 6
B 7
C 8
D 10



24. Katera trditev o prikazani reakcijski shemi je pravilna?



- A Reaktivno mesto v molekuli substrata je atom klora.
- B Elektrofil je nevtralna molekula fosforjevega(V) klorida.
- C Glavni produkt reakcije je halogenoalkan.
- D Na substratu poteka reakcija po mehanizmu elektrofilne substitucije.

25. Katera trditev je pravilna za 2-metilbutan?

- A Ciklopentan je izomer 2-metilbutana.
- B Pri radikalskem kloriranju 2-metilbutana nastanejo trije monoklorirani organski produkti.
- C Za popolno gorenje 1,00 mol 2-metilbutana potrebujemo 256 g kisika.
- D Med molekulami 2-metilbutana prevladujejo induksijske sile.

26. Katera trditev o toluenu je pravilna?

- A Toluen je aromatski ogljikovodik, ki je pri sobnih pogojih tekočina.
- B Toluen je aromatska nenasičena spojina s formulo $\text{C}_6\text{H}_5\text{CH}=\text{CH}_2$.
- C Toluen nastane z aciliranjem benzena.
- D Za toluen je značilna reakcija nukleofilna aromatska adicija.

27. Katera trditev o 2-jodopentanu je pravilna?

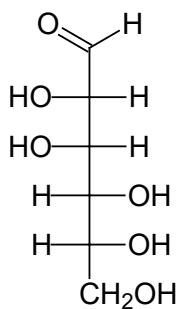
- A Vrelišče 2-jodopentana je nižje od vrelišča 2-bromopentana.
- B 2-jodopentan je bolj reaktiven kakor 2-fluoropentan.
- C Za 2-jodopentan je značilna reakcija elektrofilna substitucija.
- D Zaradi polarne kovalentne vezi med atomom ogljika in atomom joda je 2-jodopentan dobro topen v vodi.

28. Katera med navedenimi spojinami ima najnižje vrelišče?

- A Pentan.
- B 2,2-dimetilpropan.
- C Pentanal.
- D Pentanojska kislina.



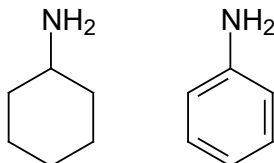
32. Prikazana je formula aciklične oblike manoze. Katera trditev je pravilna za to spojino?



- A Spojina je pentasaharid, ker vsebuje pet hidroksilnih skupin.
 B Spojino uvrščamo med ketoze, ker vsebuje karbonylni skupino.
 C Spojina ima pet centrov kiralnosti.
 D Spojina reagira s Tollensovimi reagenti.
33. Katera maščobna kislina ima največ dvojnih vezi?

- A $\text{C}_{15}\text{H}_{29}\text{COOH}$
 B $\text{C}_{17}\text{H}_{31}\text{COOH}$
 C $\text{C}_{19}\text{H}_{37}\text{COOH}$
 D $\text{C}_{21}\text{H}_{41}\text{COOH}$

34. Prikazani sta formuli cikloheksanamina in anilina.



Katera trditev je pravilna?

- A Obe spojini sta sekundarna amina.
 B Anilin je močnejša baza kakor cikloheksanamin.
 C Pri reakciji obeh aminov s HCl nastane vodotopna sol.
 D Cikloheksanamin je izomer anilina.
35. Kateri polimer je ogljikovodik?
- A Teflon.
 B PVC.
 C Najlon.
 D Kavčuk.

