



Šifra učenca:

Državni izpitni center



N 2 1 1 4 0 9 2 1

6.
razred



NACIONALNO PREVERJANJE ZNANJA
v 6. razredu v prilagojenem izobraževalnem programu z nižjim izobrazbenim standardom

Četrtek, 6. maj 2021 / 60 minut

Dovoljeni pripomočki: Učenec prinese modro/črno nalivno pero ali moder/črn kemični svinčnik, svinčnik, radirko, šilček, ravnilo, geotrikotnik in šestilo.

NAVODILA UČENCU

Natančno preberi ta navodila.

Prilepi kodo oziroma vpiši svojo šifro v okvirček desno zgoraj na tej strani.

Pri vsaki nalogi svoj odgovor napiši v predvideni prostor znotraj okvirja.

Piši čitljivo. Svinčnik uporablaj samo za risanje oziroma načrtovanje.

Če se zmotiš, napačni odgovor prečrtaj in pravihga napiši na novo.

Čeprav znaš marsikaj rešiti na pamet, zapisuj celotne račune. Pri reševanju mora biti jasno predstavljena pot do rezultata.

Na koncu svoje odgovore ponovno preveri.

Želimo ti veliko uspeha.

Preizkus ima 12 strani.



1. Oglej si števila in reši nalogo.

400

190

302

547

40

260

910

754

a) Poišči število, ki ima 2 enici.

Število napiši na črto. _____

b) Poišči število, ki ima 9 desetice.

Število napiši na črto. _____

c) Poišči število, ki ima 4 stotice.

Število napiši na črto. _____

d) Poišči število, ki ima 5 stotic in 7 enic.

Število napiši na črto. _____

(4 točke)



2. Štej po 5 nazaj od 315. Števila napiši na črte.

315 , _____ , _____ , _____ , _____ , _____

(2 točki)

3. a) Uredi števila po velikosti. Začni z največjim. Števila napiši na črto.

58, 15, 99, 27, 8

b) Uredi števila po velikosti. Začni z najmanjšim. Števila napiši na črto.

45, 25, 46, 52, 64

c) Uredi števila po velikosti. Začni z najmanjšim. Števila napiši na črto.

742, 724, 720, 704, 740

(3 točke)



6. Izračunaj.

a)
$$\begin{array}{r} 46 \\ + 53 \\ \hline \end{array}$$

b)
$$\begin{array}{r} 563 \\ + 294 \\ \hline \end{array}$$

c)
$$\begin{array}{r} 367 \\ + 478 \\ \hline \end{array}$$

d)
$$\begin{array}{r} 76 \\ - 53 \\ \hline \end{array}$$

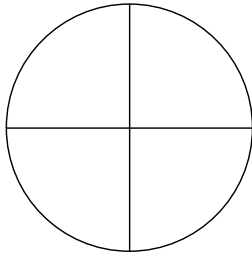
e)
$$\begin{array}{r} 100 \\ - 28 \\ \hline \end{array}$$

f)
$$\begin{array}{r} 853 \\ - 397 \\ \hline \end{array}$$

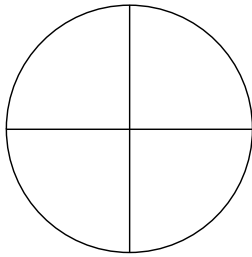
(6 točk)



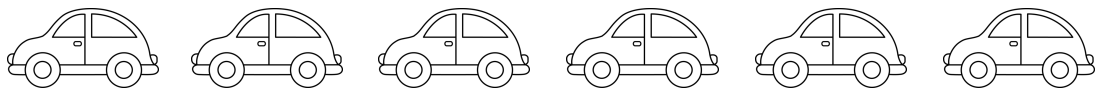
8. a) Pobarvaj polovico kroga.



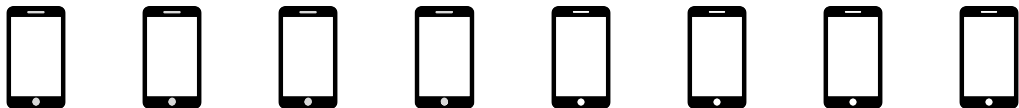
b) Pobarvaj $\frac{1}{4}$ kroga.



c) Obkroži $\frac{1}{2}$ predmetov.



d) Obkroži četrtno predmetov.



(4 točke)



N 2 1 1 4 0 9 2 1 1 1

11. V 6. razredu je 18 učencev. Na športnem dnevu je polovica učencev odšla na smučanje, polovica pa na drsanje. Skupini smučarjev se je pridružilo še pet učencev iz 5. razreda. Koliko učencev je smučalo?

Reševanje:

Odgovor: Smučalo je _____ učencev.

(3 točke)

12. Pretvori.

a) 3 dm = _____ cm

b) 200 dag = _____ kg

(2 točki)

OBRNI LIST.

